

أوراق عمل  
اجتماعيات  
الصف السادس  
الابتدائي  
الفصل الدراسي الثاني

موقع  
مادنتري



أضع علامة (✓) أمام العبارة الصحيحة، وعلامة (×) أمام العبارة الخاطئة فيما يلي:

- ولد الملك سلمان بن عبدالعزيز آل سعود في الرياض عام ١٣٤٥ هـ.
- يبلغ عدد أولاد الملك سلمان بن عبدالعزيز ١٢ ولد.
- تولى الملك سلمان بن عبدالعزيز إمارة منطقة الرياض عام ١٤٣٣ هـ.

أختار الإجابة الصحيحة:

بُوع الملك سلمان بن عبدالعزيز بالحكم في ..... من ربيع الآخر سنة ١٤٣٦ هـ.		
أ- الثالث	ب- الرابع	ج- الخامس
تلقى الملك سلمان بن عبدالعزيز آل سعود تعليمه في مدرسة الأمراء ب.....		
أ- الرياض	ب- جدة	ج- الدمام
الملك سلمان بن عبدالعزيز آل سعود الابن ..... للملك عبد العزيز.		
أ- الرابع والعشرين	ب- الخامس والعشرين	ج- السادس والعشرين

أكمل الفراغات التالية بما يناسبها: (الأمراء - السابع - والده)

- حظي الملك سلمان بن عبدالعزيز آل سعود بالعناية الخاصة من ..... الذي أتاح له الاطلاع على ما تقوم به الحكومة من أعمال وهو في سنٍ صغيرة.
- حَتَمَ الملك سلمان بن عبدالعزيز آل سعود قراءة القرآن كاملاً في مدرسة .....
- يعتبر الملك سلمان بن عبدالعزيز آل سعود الملك ..... للمملكة العربية السعودية.



أضع علامة (✓) أمام العبارة الصحيحة، وعلامة (✗) أمام العبارة الخاطئة فيما يلي:

- من جوانب عناية خادم الحرمين الشريفين الملك سلمان بن عبدالعزيز الإشراف على مناسبة مرور  
مئة عام على تأسيس المملكة.
- شهدت مدينة الرياض تطوراً كبيراً عندما كان الملك سلمان بن عبدالعزيز أميراً لها.
- يشجع الملك سلمان بن عبدالعزيز الدراسات التاريخية الوطنية ويعتني بمؤسساتها، ويحرص على  
العناية بالتراث الوطني.

أكمل الفراغات التالية بما يناسبها (١٤١٩هـ - ١٤١٧هـ - ١٤٣٨هـ):

- من جوانب عناية الملك سلمان بن عبدالعزيز، رئاسة مجلس إدارة دارة الملك عبدالعزيز سنة  
.....
- من جوانب عناية الملك سلمان بن عبدالعزيز، إنشاء مركز الملك عبدالعزيز التاريخي بالرياض سنة  
.....
- من جوانب عناية الملك سلمان بن عبدالعزيز، إنشاء هيئة تطوير بوابة الدرعية والهيئة الملكية  
لمحافظة العلا سنة .....

بم تميزت شخصية خادم الحرمين الشريفين الملك سلمان بن عبدالعزيز؟

.....  
.....  
.....



أضع علامة (✓) أمام العبارة الصحيحة، وعلامة (✗) أمام العبارة الخاطئة فيما يلي:

- من أبرز إنجازات خادم الحرمين الملك سلمان بن عبدالعزيز إقرار رؤية المملكة ٢٠٣٥.
- ترأس خادم الحرمين الملك سلمان بن عبدالعزيز قمة مجموعة العشرين خلال رئاسة المملكة العربية السعودية عام ٢٠٢٠.
- لم يتخذ الملك سلمان بن عبدالعزيز الإجراءات اللازمة للوقاية من فيروس كورونا.

أكمل الفراغات التالية بما يناسبها: (التحالف - مدينة نيوم - التحول الوطني)

- واجه خادم الحرمين الشريفين الملك سلمان بن عبدالعزيز الإرهاب بسياسة .....
- من إنجازات الملك سلمان بن عبدالعزيز، إطلاق برنامج .....
- من إنجازات الملك سلمان بن عبدالعزيز، إطلاق مشروع .....

ما أبرز القرارات التي أصدرها الملك سلمان بن عبدالعزيز لتمكين المرأة السعودية؟

.....

.....

.....

.....





أضع علامة (✓) أمام العبارة الصحيحة، وعلامة (✗) أمام العبارة الخاطئة فيما يلي:

- من أبرز ركائز رؤية المملكة ٢٠٣٠ القوة الاستثمارية.
- تمتلك المملكة العربية السعودية قدرات استثمارية ضخمة تعد داعمة للاقتصاد ومورداً إضافياً للبلاد.
- الرؤية هي خطة حاضرة للطموحات والأهداف التي نريد تحقيقها.

أكمل الفراغات التالية بما يناسبها: (التخطيط السليم - العمق الإسلامي والعربي - محور ربط)

- المملكة العربية السعودية ..... القارات الثلاثة (آسيا - إفريقيا - أوروبا).
- تقوم رؤية المملكة ٢٠٣٠ على ....., وحكمة القيادة السعودية وعنايتها.
- من ركائز الرؤية .....؛ لأن فيها الحرمين الشريفين، أظهر بقاع الأرض، ولأن الكعبة المشرفة في مكة المكرمة قبله أكثر من مليار مسلم.

ما المقصود برؤية المملكة ٢٠٣٠؟

.....

.....

.....

.....



أضع علامة (✓) أمام العبارة الصحيحة، وعلامة (✗) أمام العبارة الخاطئة فيما يلي:

- من أبرز برامج تحقيق رؤية المملكة ٢٠٣٠، برامج تطوير الصناعات الوطنية والخدمات اللوجستية.
- يهدف برنامج التخصيص إلى تحسين المالية والاستثمارية وزيادة كفاءة الإنفاق والإيراد.
- يرمي مشروع نيوم إلى تنويع الاقتصاد في المملكة العربية السعودية، والاعتماد على مصادر الطاقة المتجددة.

أصل المجموعة (أ) بما يناسبها من المجموعة (ب):

(ب)	(أ)
يعنى بتحسين نمط حياة الفرد والأسرة.	برنامج التخصيص
يرمي إلى تحقيق التميز في الأداء الحكومي.	برنامج الإسكان
يعنى بتعزيز دور القطاع الخاص في تقديم الخدمات.	برنامج جودة الحياة
يعنى بتقديم حلول سكنية تلبي احتياجات الأسرة.	برنامج التحول الوطني

ما المقصود ببرامج تحقيق رؤية المملكة ٢٠٣٠، وما أهدافها؟

.....

.....

.....

.....



أضع علامة (✓) أمام العبارة الصحيحة، وعلامة (✗) أمام العبارة الخاطئة فيما يلي:

- اعتنت رؤية المملكة العربية السعودية ٢٠٣٠ بحياة الناس وجودتها.
- لم يحظى برنامج جودة الحياة بأي اهتمام ضمن رؤية المملكة ٢٠٣٠.
- من ضمن أعمال برنامج جودة الحياة بناء أماكن جديدة لتحسين مستوى الحياة ونمط العيش في الوطن.

أكتب بعض أعمال برنامج جودة الحياة.

.....

.....

.....

.....

أكمل الفراغات التالية بما يناسبها: (المتاحف والملاعب - جودة الحياة - الفرد والأسرة)

- اعتنت رؤية المملكة العربية السعودية ٢٠٣٠ بحياة الناس وجودتها، من خلال أحد برامجها وهو برنامج .....
- من ضمن أعمال برنامج جودة الحياة بناء أماكن جديدة لتحسين مستوى الحياة ونمط العيش في الوطن مثل .....
- خصص برنامج جودة الحياة في رؤية المملكة ٢٠٣٠، لتحسين حياة .....





أضع علامة (✓) أمام العبارة الصحيحة، وعلامة (✗) أمام العبارة الخاطئة فيما يلي:

- من أبرز مجالات برنامج تنمية القدرات البشرية، توسيع المراحل الأولى في التعليم.
- الطلبة أساس برنامج تنمية القدرات البشرية.
- من أبرز مجالات برنامج تنمية القدرات البشرية، بناء قدرات المعلمين، وقيادات المدارس والمشرفين من الرجال والنساء.

أذكر بعض مجالات برنامج تنمية القدرات البشرية.

.....

.....

.....

.....

أكمل الفراغات التالية بما يناسبها: (القيم والمعارف - المبكرة - مهن المستقبل)

- من أبرز مجالات برنامج تنمية القدرات البشرية، تحضير الطلبة ل.....
- خصص برنامج تنمية القدرات البشرية في رؤية المملكة ٢٠٣٠، لتزويد المواطنين ب.....
- يعني برنامج تنمية القدرات البشرية بالطلبة منذ بدء مراحل تعليمهم .....

مادة الدراسات الاجتماعية  
الصف السادس الابتدائي

## الدرس الحادي والعشرون المواطنة



أصنف الآتي في مكانه المناسب من الجدول:

(التزام المسؤولية - التزام الأنظمة - تحقيق الأمن - التعليم والصحة - الفخر بالوطن وتراثه - حفظ الدين - المشاركة المجتمعية - العدل والمساواة)

واجبات المواطن	حقوق المواطن
.....	.....
.....	.....
.....	.....
.....	.....
.....	.....

ما معنى المواطنة؟

.....

.....

.....

.....

.....

موقع  
مادنتيري

الدرجة

اسم الطالب/ة: .....



## الدرس الثاني والعشرون الأمانة والصدق



ما أثر انتشار الأمانة على الوطن؟

.....  
.....  
.....

أضع علامة (✓) أمام العبارة الصحيحة، وعلامة (x) أمام العبارة الخاطئة فيما يلي:

- من الصدق في العمل تجنب الكذب والمبالغة.  
 الإخلاص وإتقان العمل من صفات الصادق.  
 لا يستطيع الأمين الحفاظ على الدين.

أكمل الفراغات التالية بما يناسبها مما بين الأقواس:

(الغش - الصدق - الأسرار - العمل)

- من مظاهر الأمانة: تجنب ..... وحفظ .....
- .....: قول الحقيقة دون تغيير.
- يكون الصدق في ..... بتجنب الغش والتزوير.

موقع  
مادنتيري

الدرجة

اسم الطالب/ة: .....





أضع علامة (✓) أمام الإجابة الصحيحة:

• تقوم الآثار بتعزيز:

- الموارد الاقتصادية والسياحية.
- الانتماء الوطني.
- الجانب الثقافي.
- جميع ما سبق.

أختار الإجابة الصحيحة:

يوجد الفاو في وادي الدواسر جنوب .....		
أ- مكة المكرمة	ب- المدينة المنورة	ج- الرياض
توجد الرّيذة في ..... المدينة المنورة.		
أ- شمال شرق	ب- جنوب شرق	ج- جنوب غرب
يرجع جرش إلى .....		
أ- العصور الإسلامية	ب- العصر العباسي	ج- عصور ما قبل الإسلام

ما مهام عالم الآثار؟

.....

.....

.....

.....





ما وظائف الضرائب؟

.....

.....

.....

أضع علامة (✓) أمام العبارة الصحيحة، وعلامة (✗) أمام العبارة الخاطئة فيما يلي:

- تفرض ضريبة السلع المنتقاة على ما يحصل عليه غير السعوديين من دَخل غير الرواتب.
- تتولى هيئة الزكاة والضريبة والجمارك تحصيل الضرائب ومتابعتها.
- تفرض ضريبة على مشروبات الطاقة بنسبة ٥٠٪.
- تفرض ضريبة القيمة المضافة على التصرفات العقارية بنسبة ١٥٪.

أختار الإجابة الصحيحة:

تصرف الزكاة .....		
ج- جميع ما سبق	ب- على نفقات الخدمات والتنمية لمصلحة الوطن والمواطن	أ- لمستحي الضمان الاجتماعي
تصرف الضرائب .....		
ج- جميع ما سبق	ب- على نفقات الخدمات والتنمية لمصلحة الوطن والمواطن	أ- لمستحي الضمان الاجتماعي



أضع علامة (✓) أمام العبارة الصحيحة، وعلامة (×) أمام العبارة الخاطئة فيما يلي:

- تمكنا خطوط الطول ودوائر العرض من تحديد المواقع.
- تمكنا دوائر العرض من تحديد التوقيت.
- تمكنا خطوط الطول من تحديد المناخ.

أكمل الفراغات التالية:

- خط دوائر العرض الرئيسي هو خط .....، ودرجته .....
- خط خطوط الطول الرئيسي هو خط .....، ودرجته .....
- يقع مدار ..... في شمال خط الاستواء بينما يقع مدار ..... في شمال جنوب الاستواء.

أختار الإجابة الصحيحة:

تدور الأرض حول محورها من الغرب إلى الشرق مرة كل ..... ساعة.		
أ- ٦	ب- ١٢	ج- ٢٤
عدد دوائر العرض ..... دائرة.		
أ- ٣٦٠	ب- ١٦٠	ج- ١٨٠
يزداد التوقيت ساعة واحدة كلما اتجهنا ..... خط جرينتش بمقدار ١٥ خطأً طولياً.		
أ- شرق	ب- شمال	ج- غرب





أذكر أربع من السمات السياسية والاقتصادية للموقع الجغرافي لوطننا:

١. ....
٢. ....
٣. ....
٤. ....

أضع علامة (✓) أمام العبارة الصحيحة، وعلامة (✗) أمام العبارة الخاطئة فيما يلي:

- يُقصد بالموقع الجغرافي للمملكة موقعها بالنسبة لخطوط الطول ودوائر العرض.
- تقع المملكة العربية السعودية في أقصى الجنوب الغربي من قارة آسيا.
- المملكة العربية السعودية فيها أول بيت وضع للناس.

أختار الإجابة الصحيحة:

يحد المملكة العربية السعودية غرباً .....		
أ- الخليج العربي والإمارات العربية المتحدة	ب- البحر الأحمر	ج- الجمهورية اليمنية وسلطنة عمان
يحد المملكة العربية السعودية ..... دولة الكويت وجمهورية العراق.		
أ- غرباً	ب- شمالاً	ج- شرقاً
تقع المملكة العربية السعودية ..... خط جرينتش.		
أ- شرق	ب- شمال	ج- غرب

الدرجة

.....

اسم الطالب/ة: .....





أضع علامة (✓) أمام العبارة الصحيحة، وعلامة (×) أمام العبارة الخاطئة فيما يلي:

- تقع أجزاء واسعة من المملكة العربية السعودية ضمن الحزام الصحراوي المداري.
- مناخ المملكة العربية السعودية حار شتاءً وبارد صيفاً.
- يقتصر تأثير الخليج العربي والبحر الأحمر على السواحل المجاورة لهما.

أختار الإجابة الصحيحة:

تسقط الأمطار في جميع فصول السنة تقريباً في .....		
أ- الجنوب الغربي	ب- الشمال الغربي	ج- الجنوب الشرقي
ترتفع الرطوبة في المملكة في .....		
أ- المناطق الشمالية	ب- المرتفعات الغربية والجنوبية الغربية	ج- السواحل
تتصف المرتفعات الغربية والجنوبية الغربية في المملكة بمناخ .....		
أ- شديد الجفاف	ب- شبه جاف	ج- رطب

كيف يؤثر الموقع الفلكي للمملكة على مناخها؟

.....

.....

.....

.....

.....





ما أهمية إجراء التعداد السكاني؟

- .....
- .....
- .....

أضع علامة (✓) أمام العبارة الصحيحة، وعلامة (x) أمام العبارة الخاطئة فيما يلي:

- عدد السكان الإناث الغير سعوديين أكثر من عدد السكان الإناث السعوديين في المملكة.
- أجري التعداد السكاني الشامل الأخير عام ١٣٩٤هـ.
- السكان هم المواطنون الوافدون إلى الوطن من ذكور وإناث.

أعلل الآتي:

- يكثر السكان في المدن.

- .....
- .....





أضع علامة (✓) أمام العبارة الصحيحة، وعلامة (×) أمام العبارة الخاطئة فيما يلي:

- لكل من الأسرة والمدرسة دور في بناء المجتمع.
- لا يوجد علاقة مشتركة بين الأسرة والمدرسة والمجتمع.
- تعزز المشاركة الثقة وتحمل المسؤولية بين أفراد المجتمع.

أكمل الفراغات التالية:

(التقاليد - المخالفات - العادات)

- يجب أن تكون المشاركة خالية من ..... الشرعية.
- يجب أن تتوافق المشاركة مع ..... و.....

أذكر ثلاث من فوائد المشاركة في المجتمع:

- .....
- .....
- .....

# أوراق عمل أخرى

موقع  
مادنتيري

المملكة العربية السعودية

وزارة التعليم

إدارة التعليم بمنطقة .....

مدرسة .....



وزارة التعليم

Ministry of Education

ورقة عمل درس : ( نشأة الملك سلمان بن عبدالعزيز حفظه الله )

اسم الطالب / ..... الصف : سادس / .....

س ١ / أكمل الفراغات الآتية :

أ - ولد خادم الحرمين الشريفين الملك سلمان بن عبدالعزيز في مدينة ..... عام .....

س ٢ / عدد أهم المناصب التي تولاها الملك سلمان بن عبدالعزيز قبل توليه الحكم :

١ / .....

٢ / .....

٣ / .....

٤ / .....

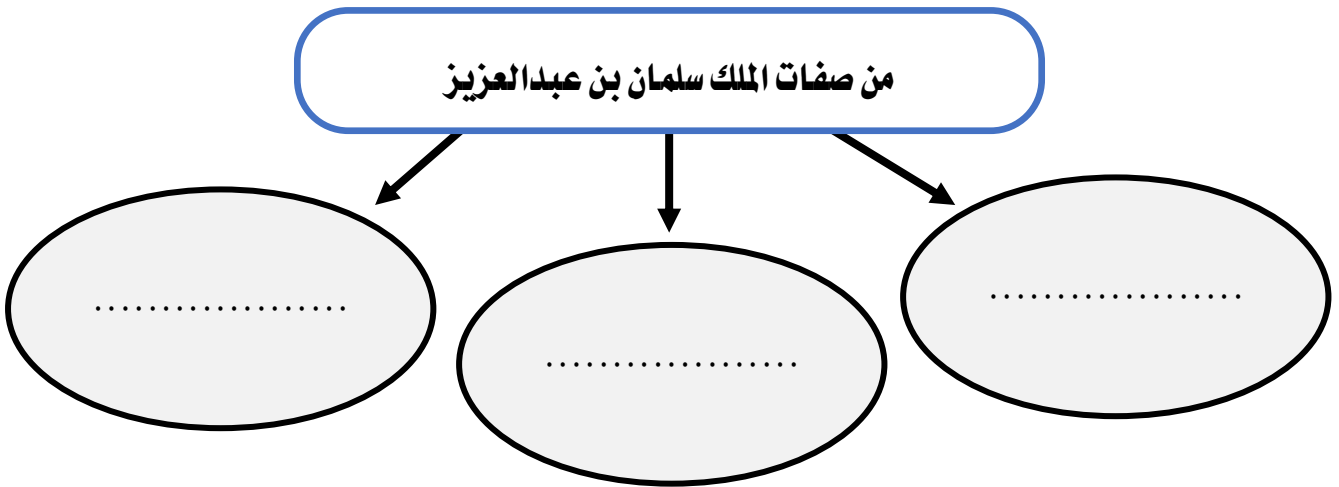
س ٣ / اختر الإجابة الصحيحة فيما يلي :

١	بلغ عدد السنوات التي قضاها الملك سلمان بن عبدالعزيز أميراً للرياض :
	٥٠ عام      ٥٨ عام      ٦٥ عام
٢	بويع الملك سلمان بن عبدالعزيز ملكاً للبلاد عام :
	١٤٣٠هـ      ١٤٣٦هـ      ١٤٢٨هـ

ورقة عمل درس : ( شخصية ومواقف الملك سلمان بن عبدالعزيز حفظه الله )

اسم الطالب / ..... الصف : سادس / .....

س ١ / اذكر ثلاث صفات من صفات الملك سلمان بن عبدالعزيز :



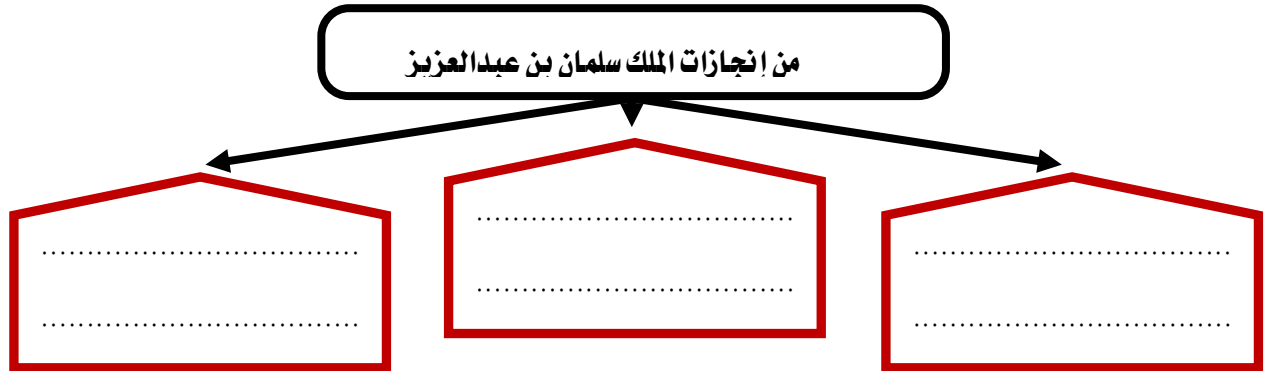
س ٢ / ضع التواريخ التالية : ( ١٤١٧ هـ - ١٤١٩ هـ - ١٤٣١ هـ ) أمام ما يناسبها من حدث في الجدول التالي :

العام	الحدث
	الإشراف العام على مناسبة مرور مائة عام على تأسيس المملكة
	رئاسة مجلس إدارة إدارة الملك عبدالعزيز
	تطوير الدرعية التاريخية وتسجيلها باليونسكو

ورقة عمل درس : (إنجازات الملك سلمان بن عبدالعزيز حفظه الله)

اسم الطالب / ..... الصف : سادس / .....

س١ / اذكر ثلاثاً من إنجازات الملك سلمان بن عبدالعزيز؟



س٢ / ضع العبارات المناسبة في مكانها المناسب من النص الآتي :

الملك سلمان للإغاثة والأعمال الإنسانية

لمكافحة الفكر المتطرف

الإسلامي العسكري لمكافحة الإرهاب

- من الإنجازات الوطنية للملك سلمان بن عبدالعزيز في خدمة الإغاثة العالمية تأسيس مركز .....
- وفي محاربة الإرهاب والتطرف إنشاؤه التحالف .....
- والمركز العالمي .....

س٢ / اذكر أبرز قضية عربية اعتنى بها خادم الحرمين الشريفين الملك سلمان بن عبدالعزيز؟

ج / .....

المملكة العربية السعودية

وزارة التعليم

إدارة التعليم بمنطقة .....

مدرسة .....



وزارة التعليم

Ministry of Education

ورقة عمل درس : ( رؤية المملكة ٢٠٣٠ )

اسم الطالب / ..... / الصف : سادس / .....

س١ / ضع العبارات التالية (الأهداف.١٤٣٧هـ. تحقيقها ) في الفراغات :

- أ - الرؤية هي خطة مستقبلية للطموحات و ..... التي نريد .....
- ب - أطلق خادم الحرمين الشريفين الملك بن عبدالعزيز عام ..... رؤية ٢٠٣٠ لتطوير المملكة العربية السعودية

س٢ / ضع علامة ( √ ) أمام العبارة الصحيحة وعلامة ( × ) أمام العبارة الخاطئة فيما يلي :

١ - رؤية المملكة ٢٠٢٠ جاءت من أجل تطوير المملكة العربية السعودية .

٢ - من عوامل نجاح رؤية المملكة ٢٠٣٠ التخطيط السليم .

س٣ / عدد ركائز رؤية ٢٠٣٠ :

١ / .....

٢ / .....

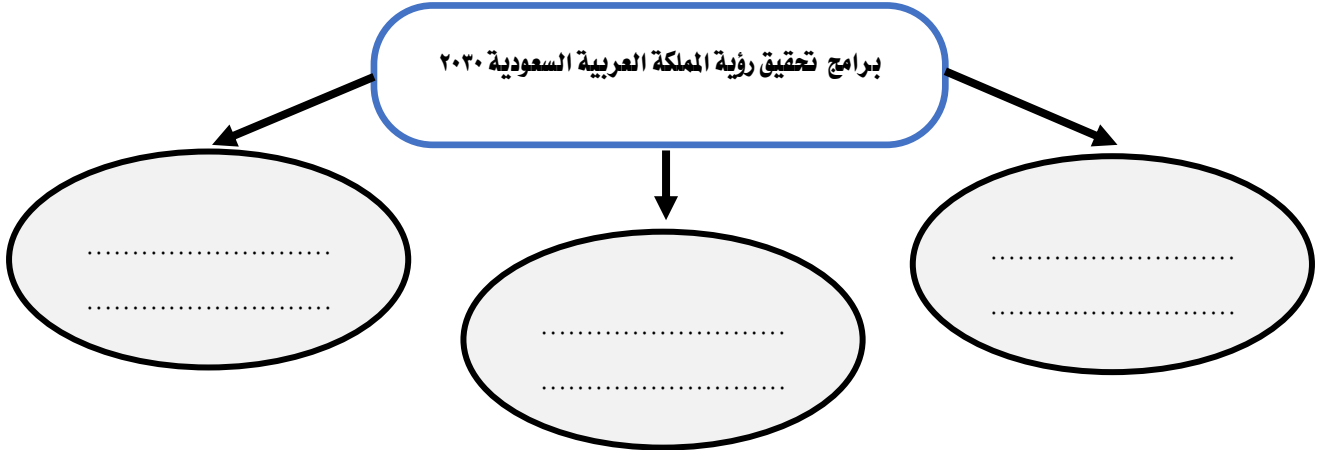
٢ / .....



ورقة عمل درس : ( برامج تحقيق رؤية المملكة ٢٠٣٠ )

اسم الطالب / ..... / الصف : سادس / .....

س١ / اذكر ثلاثاً من برامج تحقيق رؤية المملكة ٢٠٣٠ :



س٢ / ضع علامة ( √ ) أمام العبارة الصحيحة وعلامة ( × ) أمام العبارة الخاطئة فيما يلي :

١ - أشرف صاحب السمو الملكي الأمير محمد بن سلمان ولي العهد على مشروع نيوم .

٢ - تقع مدينة نيوم المستقبلية شمال غرب المملكة العربية السعودية .

٣ - بلغ عدد برامج تحقيق رؤية المملكة ٢٠٣٠ سبعة برامج .



ورقة عمل درس : ( برنامج جودة الحياة )

اسم الطالب / ..... / الصف : سادس / .....

س١ / ضع علامة ( √ ) أمام العبارة الصحيحة وعلامة ( × ) أمام العبارة الخاطئة فيما يلي :

- ١ - تحسين مستوى العيش ونمط الحياة من أسس برنامج جودة الحياة
- ٢ - من أهداف برنامج جودة الحياة تحسين المدن السعودية
- ٣ - من نتائج رؤية ٢٠٣٠ المتوقعة تصنيف مدن سعودية من أفضل ١٠٠ مدينة في العالم

س٢ / من ضمن أعمال برنامج جودة الحياة بناء أماكن جديدة لتحسين نمط الحياة ومستوى العيش في الوطن اذكر ثلاثاً منها ؟

- ١ - .....
- ٢ - .....
- ٣ - .....

ورقة عمل درس : ( برنامج تنمية القدرات البشرية )

اسم الطالب / ..... / الصف : سادس / .....

س ١ / اذكر أربعة من مجالات برنامج تنمية القدرات البشرية :

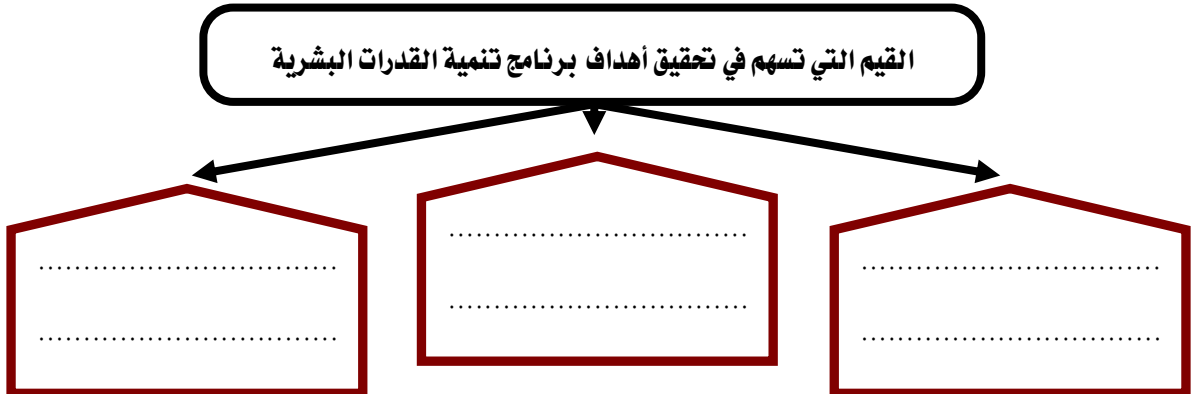
١ - .....

٢ - .....

٣ - .....

٤ - .....

س ٢ / يرمي برنامج تنمية القدرات البشرية إلى تعزيز عدد من القيم التي تسهم في تحقيق أهدافه ، اذكر ثلاثاً منها :



المملكة العربية السعودية

وزارة التعليم

إدارة التعليم بمنطقة .....

مدرسة .....



وزارة التعليم

Ministry of Education

ورقة عمل درس : ( المواطنة )

اسم الطالب / ..... الصف : سادس / .....

.....

س / عرف المواطنة .

ج / .....

.....

س / اذكر اربعة من حقوق المواطن .

حقوق المواطن

..... .....	..... .....	..... .....	..... .....
----------------	----------------	----------------	----------------

س / اذكر مظاهر انتماء الإنسان إلى وطنه .

مظاهر انتماء الإنسان

.....	.....	.....	.....
-------	-------	-------	-------

ورقة عمل درس : ( الأمانة والصدق )

اسم الطالب / ..... / الصف : سادس / .....

س / اذكر اثنين من مظاهر الأمانة :

ج / ١ / .....

٢ / .....

س / ضع علامة ( √ ) أمام العبارة الصحيحة وعلامة ( × ) أمام العبارة الخاطئة فيما يلي :

- ١ - الأمانة ضد الخيانة .
- ٢ - إهمال الأمانة يقود إلى عقاب دنيوي وعقاب في الآخرة .
- ٣ - خيانة الوطن معالف للأمانة .

س / ضع الكلمات الآتية في الفراغ المناسب :

- الغلاء      الاستقرار      الأمن      الفساد

الأمانة تحقق ..... للوطن ، وتحافظ على الدين ، وتمنع .....

وتؤدي إلى .....

ورقة عمل درس : ( الآثار التاريخية الوطنية )

اسم الطالب / ..... الصف : سادس / .....

س / أكمل الفراغات التالية :

- أ - الآثار سجل ..... مهم للوطن
- ب - من أمثلة أعمال التنقيب الأثري في وطني .....
- ج - الآثار ثروة وطنية والمحافظة عليها ..... وطني

س / اذكر طريقة المحافظة على الآثار .



طريقة المحافظ على الآثار

Four empty boxes with blue borders and dotted lines inside, connected by a blue line with arrows pointing down to each box, intended for students to write their answers to the question about methods of preserving heritage.

س / ماذا يستفيد الوطن من الآثار ؟

- أ - .....
- ب - .....

س / ما عقوبة مخالفة نظام الآثار ؟

- أ - .....
- ب - .....

المملكة العربية السعودية

وزارة التعليم

إدارة التعليم بمنطقة .....

مدرسة .....



وزارة التعليم

Ministry of Education

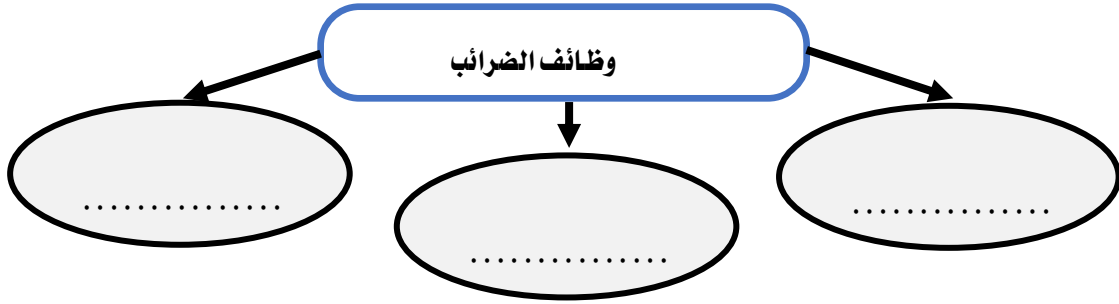
ورقة عمل درس : ( الضرائب )

اسم الطالب / ..... / الصف : سادس / .....

س / عرف الضريبة .

ج / .....

س / اذكر وظائف الضرائب :



س / ضع علامة ( √ ) أمام العبارة الصحيحة وعلامة ( × ) أمام العبارة الخاطئة فيما يلي :

- ١ - الجهة التي تتولى تحصيل الضرائب في وطني هي الهيئة العامة للزكاة والدخل .
- ٢ - ضريبة القيمة المضافة في وطني ١٠% .
- ٣ - تأسست الهيئة العامة للزكاة والدخل في عهد الملك عبدالعزيز عام ١٣٥٥هـ .
- ٤ - أنشأ برنامج حساب المواطن لحماية المواطنين والأسر من ذوي الدخل المنخفض أو المتوسط .

ورقة عمل درس : ( خطوط الطول ودوائر العرض )

اسم الطالب / ..... الصف : سادس / .....



س / ما المقصود بخطوط الطول ودوائر العرض ؟

ج / .....

.....

س / اذكر مزايا خطوط الطول :

مزايا خطوط الطول

.....

.....

س / ضع علامة (  $\checkmark$  ) أمام العبارة الصحيحة وعلامة (  $\times$  ) أمام العبارة الخاطئة فيما يلي :

- ١ - الخط الرئيسي لدوائر العرض هو خط الاستواء .
- ٢ - يبلغ عدد دوائر العرض ٣٦٠ دائرة .
- ٣ - تمكننا دوائر العرض من تحديد المناخ .
- ٤ - تدور الأرض حول محورها من الغرب إلى الشرق مرة كل ٢٤ ساعة .

ورقة عمل درس : ( موقع وطني المملكة العربية السعودية )

اسم الطالب / ..... الصف : سادس / .....



س / ما الفرق بين موقع وطني الفلكي وموقع وطني الجغرافي ؟

ج/ الموقع الفلكي : .....

الموقع الجغرافي : .....

س / صنّف سمات الموقع الجغرافي لوطني المملكة العربية السعودية في الجدول الآتي :

تتوسط حضارات الصين والهند

وجود بيت الله الحرام وقبلة المسلمين

أول بيت وضع للناس

مهد الحضارات

تحيط بها ثمان دول عربية

وجود مسجد الرسول محمد صلى الله عليه

تقع في قلب قارات العالم آسيا واوروپا

تتوسط شبه الجزيرة العربية

سمات حضارية وتاريخية

سمات دينية

سمات سياسية واقتصادية

.....  
.....  
.....  
.....  
.....

.....  
.....  
.....  
.....  
.....

.....  
.....  
.....  
.....  
.....

المملكة العربية السعودية

وزارة التعليم

إدارة التعليم بمنطقة .....

مدرسة .....



وزارة التعليم

Ministry of Education

ورقة عمل درس : ( مناخ وطني المملكة العربية السعودية )

اسم الطالب / ..... / الصف : سادس / .....

س / صف مناخ ووطنك المملكة العربية السعودية .

ج /

س / عدد العوامل المؤثرة في مناخ وطني المملكة العربية السعودية :

١ -

٢ -

س / اذكر سبب ما يأتي :

١ - اعتدال المناخ في المناطق الجنوبية الغربية من وطني المملكة العربية السعودية ؟

-

١

٢ - تفاوت نزول الأمطار في مناطق وطني المملكة العربية السعودية ؟

-

١

المملكة العربية السعودية

وزارة التعليم

إدارة التعليم بمنطقة .....

مدرسة .....



وزارة التعليم

Ministry of Education

ورقة عمل درس : ( سكان وطني المملكة العربية السعودية )

اسم الطالب / ..... الصف : سادس / .....

=====

س / ما المقصود بالسكان ؟

..... / ج

.....

س / ما المقصود بالتعداد السكاني ؟

..... / ج

.....

س / اذكر اثنين من أسباب إجراء الدولة للتعداد السكاني :

..... / ج / ١

..... / ج / ٢

س / اختر الاجابة الصحيحة فيما يلي :

١	توزيع السكان في جميع مناطق وطني :	متساوي	متغير باستمرار	متفاوت
٢	أكثر فئة من السكان في وطني :	صغار السن	متوسطو السن	كبار السن
٣	الأماكن التي يقل فيها السكان :	المدن	الصحراء	المحافظات



ورقة عمل درس : ( المشاركة المجتمعية )

اسم الطالب / ..... / الصف : سادس / .....

س / اذكر أربعاً من فوائد المشاركة في المجتمع :

٢ - .....

١ - .....

٤ - .....

٣ - .....

س / عدد ثلاثاً من ضوابط المشاركة المجتمعية :

ضوابط المشاركة المجتمعية

.....  
.....  
.....

.....  
.....  
.....

.....  
.....  
.....