

30	الدرجة	محمد القرني	اسم الطالب/ة
----	--------	-------------	--------------

16 درجة

السؤال الأول:

أ ضع/ي علامة ( √ ) امام العبارة الصائبة وعلامة ( x ) امام العبارة الخاطئة ؟

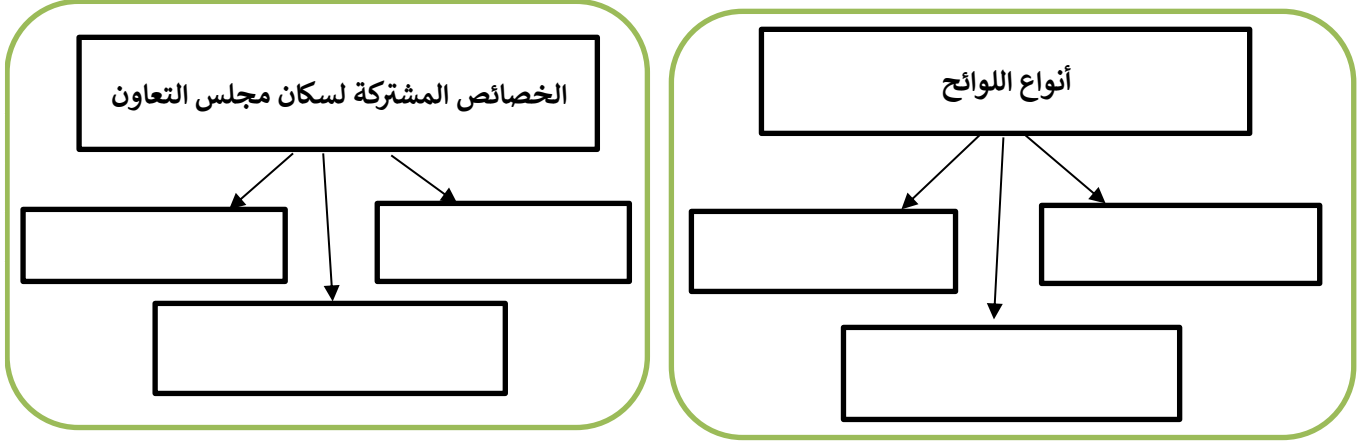
1	من نتائج الالتزام بالأنظمة تحمّل المسؤولية
2	تمتلك دول مجلس التعاون الخليجي موارد اقتصادية لها تأثير كبير في اقتصاديات العالم
3	من مميزات موقع دول مجلس التعاون انه يتوسّط بين ثلاث قارات ( آسيا و افريقيا و اوروبا )
4	الأنظمة الاساسية هي التي تهتم بشؤون الحكم و الادارة
5	تشهد دول مجلس التعاون نمواً سكانياً بسبب زيادة الموارد و تحسّن الخدمات الصحية
6	من أهم المحاصيل الزراعية لدول مجلس التعاون ( التّمور )
7	العمالة الوافدة و البطالة و التصحرّ من اهم التحديات التي تواجه دول مجلس التعاون
8	نظام حماية الطفل يُعدّ من ( الأنظمة الاساسية ) في المملكة العربية السعودية

ب ضع/ي الأرقام الموجودة أمام المجموعة الأولى أمام ما يناسبها من المجموعة الثانية ؟

الرقم	دول مجلس التعاون الخليجي	الرقم	عواصم دول مجلس التعاون الخليجي
1	المملكة العربية السعودية		مسقط
2	مملكة البحرين		الرياض
3	سلطنة عمان		الكويت
4	دولة قطر		المنامة
			الدوحة

ج قارن بين ( المجلس الأعلى ) و ( المجلس الوزاري ) وفق الجدول أدناه ؟

المجلس الاعلى	وجه المقارنة	المجلس الوزاري
	مما يتكون (أعضائه)	
	عقد اجتماعاته ( في العام )	



اختر الاجابة الصائبة والصحيحة لما يأتي؟

ب

1	أ	أم القرى	ب	الوطن	ج	عكاظ	د	المدينة
تنشر الأنظمة السعودية في جريدة .....								
2	أ	1400هـ	ب	1401هـ	ج	1402هـ	د	1403هـ
تأسس مجلس التعاون لدول الخليج العربي عام :								
3	أ	الشمالي	ب	الغربي	ج	الجنوبي الغربي	د	الشرقي
تقع دول مجلس التعاون الخليج العربي في الركن ..... من قارة آسيا :								
4	أ	أمر ملكي	ب	مرسوم ملكي	ج	أمر سامي	د	أمر خاص
الانظمة الاساسية في المملكة العربية السعودية تصدر :								
5	أ	البحرين	ب	عمان	ج	السعودية	د	الكويت
من المظاهر الطبيعية في دول مجلس التعاون الهضاب ومن اشهرها هضبة نجد في :								
6	أ	النظام	ب	اللائحة	ج	المجلس	د	الادارة
قواعد و أحكام ملزمة تنظّم جانباً محدداً :								
7	أ	رياضية	ب	أمنية	ج	سياسية	د	اقتصادية
تحقيق التضامن و الوحدة العربية الاسلامية من الانجازات ..... لمجلس التعاون الخليجي :								
8	أ	4 دول	ب	5 دول	ج	6 دول	د	7 دول
عدد دول مجلس التعاون الخليجي .....								

← انتهت الاسئلة ←

مدير المدرسة: .....

معلم المادة: محمد القرني

نموذج اسئلة الاختبار الأول  
المادة: الدراسات الاجتماعية  
الصف: الثاني المتوسط  
الفترة الدراسية الثانية  
1447هـ

# نموذج الاجابة

المملكة العربية السعودية  
وزارة التعليم  
الادارة العامة للتعليم بمنطقة  
مدرسة .....

اسم الطالب/ة	محمد القرني	الدرجة	اجابة	30
--------------	-------------	--------	-------	----

16 درجة

## السؤال الأول:

ضع/ي علامة ( √ ) امام العبارة الصائبة وعلامة ( x ) امام العبارة الخاطئة ؟

أ

1	من نتائج الالتزام بالأنظمة تحمّل المسؤولية	√
2	تمتلك دول مجلس التعاون الخليجي موارد اقتصادية لها تأثير كبير في اقتصاديات العالم	√
3	من مميزات موقع دول مجلس التعاون انه يتوسّط بين ثلاث قارات ( آسيا و افريقيا و اوروبا )	√
4	الأنظمة الاساسية هي التي تهتم بشؤون الحكم و الادارة	√
5	تشهد دول مجلس التعاون نمواً سكانياً بسبب زيادة الموارد و تحسّن الخدمات الصحية	√
6	من أهم المحاصيل الزراعية لدول مجلس التعاون ( التّمور )	√
7	العمالة الوافدة و البطالة و التصحرّ من اهم التحديات التي تواجه دول مجلس التعاون	√
8	نظام حماية الطفل يُعدّ من ( الأنظمة الاساسية ) في المملكة العربية السعودية	x

ب ضع/ي الأرقام الموجودة أمام المجموعة الأولى أمام ما يناسبها من المجموعة الثانية ؟

ب

الرقم	دول مجلس التعاون الخليجي	الرقم	عواصم دول مجلس التعاون الخليجي
1	المملكة العربية السعودية	3	مسقط
2	مملكة البحرين	1	الرياض
3	سلطنة عمان		الكويت
4	دولة قطر	2	المنامة
		4	الدوحة

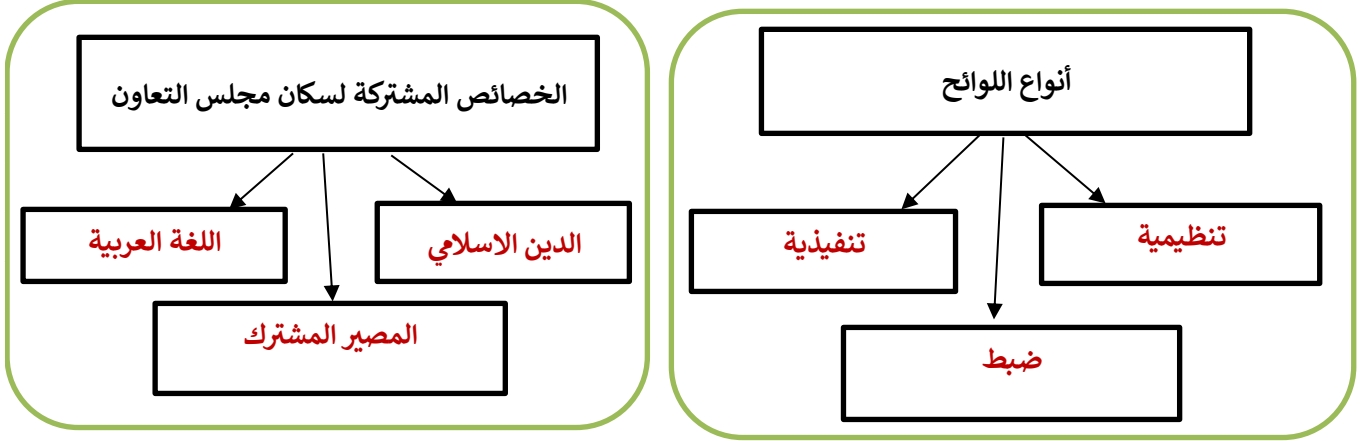
ج قارن بين ( المجلس الأعلى ) و ( المجلس الوزاري ) وفق الجدول أدناه ؟

ج

المجلس الاعلى	وجه المقارنة	المجلس الوزاري
قادة الدول	مما يتكون (أعضائه)	وزراء الخارجية
مرة واحدة في العام	عقد اجتماعاته ( في العام )	مرة واحدة كل 3 أشهر

أقلب/ي الورقة

موقع  
مادنتيري



اختر الاجابة الصائبة والصحيحة لما يأتي؟

ب

1	أ	أم القرى	ب	الوطن	ج	عكاظ	د	المدينة	تنشر الأنظمة السعودية في جريدة .....
2	أ	1400هـ	ب	1401هـ	ج	1402هـ	د	1403هـ	تأسس مجلس التعاون لدول الخليج العربي عام :
3	أ	الشمالي	ب	الغربي	ج	الجنوبي الغربي	د	الشرقي	تقع دول مجلس التعاون الخليج العربي في الركن ..... من قارة آسيا :
4	أ	أمر ملكي	ب	مرسوم ملكي	ج	أمر سامي	د	أمر خاص	الانظمة الاساسية في المملكة العربية السعودية تصدر :
5	أ	البحرين	ب	عمان	ج	السعودية	د	الكويت	من المظاهر الطبيعية في دول مجلس التعاون الهضاب ومن اشهرها هضبة نجد في :
6	أ	النظام	ب	اللائحة	ج	المجلس	د	الادارة	قواعد و أحكام ملزمة تنظّم جانباً محدداً :
7	أ	رياضية	ب	أمنية	ج	سياسية	د	اقتصادية	تحقيق التضامن والوحدة العربية الاسلامية من الانجازات ..... لمجلس التعاون الخليجي :
8	أ	4 دول	ب	5 دول	ج	6 دول	د	7 دول	عدد دول مجلس التعاون الخليجي .....

← انتهت الاسئلة ←

مدير المدرسة: .....

معلم المادة: محمد القرني

المادة:	الدراسات الاجتماعية	<p>بسم الله الرحمن الرحيم</p>  <p>وزارة التعليم Ministry of Education</p>	<p>المملكة العربية السعودية</p> <p>وزارة التعليم</p> <p>... ..</p> <p>مدرسة: ... ..</p>
الاختبار:	اختبار الفترة الفصل الدراسي الثاني		
الصف:	الثاني متوسط		
الزمن:	٤٥ دقيقة		
الفترة:	الاولى		

اسم الطالب	
	٣٠

السؤال 1: اختر الإجابة الصحيحة:	15
---------------------------------	----

1	يرجع النمو الكبير في عدد سكان دول مجلس التعاون في العقود الأخيرة إلى عدة أسباب، منها:	(أ) تحسن الخدمات الصحية	(ب) قلة الموارد الاقتصادية	(ج) هجرة السكان للخارج	(د) انخفاض فرص العمل
2	من مظاهر تلوث الهواء في دول مجلس التعاون:	(أ) تسرب النفط	(ب) المبيدات الزراعية	(ج) دخان المصانع وعوادم السيارات	(د) رمي النفايات في البحر
3	تُعرف المشكلة التي يواجهها المرء عندما يكون قادراً على العمل وراغباً فيه ولا يجده عند مستوى الأجر السائد بـ:	(أ) التصحر	(ب) البطالة	(ج) التلوث	(د) التقاعد
4	مع أي تكتل دولي ينسق مجلس التعاون موافقه على الساحة الاقتصادية الدولية؟	(أ) الاتحاد الأوروبي	(ب) منظمة الآسيان	(ج) الاتحاد الإفريقي	(د) مجموعة البريكس
5	تستورد دول مجلس التعاون الماشية لسد الاحتياج من عدة دول، منها:	(أ) السودان	(ب) اليابان	(ج) كندا	(د) النرويج
6	من المعادن ذات الأهمية الصناعية الموجودة في دول مجلس التعاون:	(أ) اليورانيوم	(ب) الفحم الحجري	(ج) البوكسيت	(د) الماس
7	في أي عام تم إنشاء مجلس التنسيق السعودي الإماراتي (خلوة العزم)؟	(أ) 1430هـ (2009م)	(ب) 1435هـ (2014م)	(ج) 1437هـ (2016م)	(د) 1440هـ (2019م)
8	ما السبب الرئيس الذي دفع دول مجلس التعاون لاستقدام العمالة الوافدة في بداية خططها التنموية؟	(أ) رغبة في زيادة عدد السكان	(ب) قلة الأيدي العاملة الوطنية في بعض الأعمال	(ج) انخفاض تكلفة العمالة الوافدة فقط	(د) تنوع الثقافات في المجتمع
9	أي من التالي يُعد من الإنجازات الاقتصادية لمجلس التعاون؟	(أ) تكوين قوة درع الجزيرة	(ب) تحقيق التضامن العربي	(ج) حرية انتقال السلع الوطنية	(د) مكافحة الإرهاب

10	حققت المملكة العربية السعودية الاكتفاء الذاتي من إنتاج:		
	(أ) القمح	(ب) التمور	(ج) الفواكه الاستوائية
	(د) الأرز		
11	أحد الإنجازات السياسية لمجلس التعاون هو الدعم الدائم للقضية:		
	(أ) الفلسطينية	(ب) البلقانية	(ج) الآسيوية
	(د) اللاتينية		
12	أي مما يلي يُعد من الآثار السلبية المترتبة على زيادة العمالة الوافدة في دول مجلس التعاون؟		
	(أ) زيادة فرص العمل للمواطنين	(ب) تغير التركيبة السكانية	(ج) انخفاض استهلاك الخدمات الأساسية
	(د) تجانس البيئة الاجتماعية		
13	أحد الأسباب البشرية التي تؤدي إلى ظاهرة التصحر هو:		
	(أ) قلة الأمطار	(ب) زحف الرمال	(ج) الجفاف الناشئ طبيعياً
	(د) الرعي الجائر وقطع الأشجار		
14	كانت الصناعة في دول مجلس التعاون في الماضي تعتمد على:		
	(أ) التقنية الحديثة	(ب) الحرف اليدوية	(ج) المصانع الكبرى
	(د) الإنتاج الضخم		
15	ما هو الاسم الذي أطلق على القوة العسكرية الموحدة للتدخل السريع لدول مجلس التعاون؟		
	(أ) درع الجزيرة	(ب) عاصفة الصحراء	(ج) الدرع العربي
	(د) قوة الردع المشترك		

السؤال 2: ضع علامة (✓) أو (X) أمام العبارات التالية:	
15	

#	العبارة	الإجابة
1	خصصت دول مجلس التعاون أسبوعاً توعوياً في مجال الرعاية البيئة يُسمى أسبوع الشجرة.	( )
2	يُسمح لمواطني دول مجلس التعاون بممارسة عدد من المهن بالدول الأعضاء.	( )
3	أدى تزايد استخدام العمالة الوافدة إلى تكوين بيئة اجتماعية غير متجانسة في دول مجلس التعاون.	( )
4	أدى اكتشاف النفط إلى ظهور أنشطة اقتصادية جديدة وتغير حياة السكان في دول الخليج.	( )
5	تعتبر اتفاقية الدفاع المشترك من الإنجازات الاقتصادية لدول مجلس التعاون.	( )
6	تُعد البطالة من أسباب الاستقرار الاجتماعي ولا ينتج عنها أي آثار سلبية.	( )
7	يكفي الإنتاج الزراعي والحيواني المحلي في دول مجلس التعاون كافة طلبات السوق المتزايدة.	( )
8	التوسع العمراني وإقامة المشروعات على حساب الغطاء النباتي يساهم في الحد من التصحر.	( )
9	تشابه الأنشطة الاقتصادية لسكان دول مجلس التعاون قديماً وحديثاً.	( )
10	يُعد الدين الإسلامي من أبرز الخصائص المشتركة لسكان دول مجلس التعاون.	( )
11	يعتبر تسرب النفط ورمي مخلفات المصانع من أسباب تلوث المياه.	( )
12	قلت أهمية صيد الأسماك كحرفة بعد ظهور النفط، ولم تُسن أي قوانين لتنظيمه.	( )
13	من الإنجازات السياسية دعم وحدة الجمهورية العراقية والجمهورية اليمنية واستقرارهما.	( )
14	يُعد مجلس التنسيق السعودي الإماراتي نموذجاً رائداً للتعاون الثنائي.	( )

انتهت الأسئلة ... بالتوفيق

الاستاذ/محمود القيسي

تجميعات قروب ابورايد

المادة:	الدراسات الاجتماعية	بسم الله الرحمن الرحيم  وزارة التعليم Ministry of Education	المملكة العربية السعودية وزارة التعليم ... مدرسة: ...
الاختبار:	اختبار الفترة الفصل الدراسي الثاني		
الصف:	الثاني متوسط		
الزمن:	٤٥ دقيقة		
الفترة:	الاولى		

# نموذج الاجابة

اسم الطالب	
٣٠	

السؤال 1: اختر الإجابة الصحيحة:	15
---------------------------------	----

1	يرجع النمو الكبير في عدد سكان دول مجلس التعاون في العقود الأخيرة إلى عدة أسباب، منها:	(أ) تحسن الخدمات الصحية	(ب) قلة الموارد الاقتصادية	(ج) هجرة السكان للخارج	(د) انخفاض فرص العمل
2	من مظاهر تلوث الهواء في دول مجلس التعاون:	(أ) تسرب النفط	(ب) المبيدات الزراعية	(ج) دخان المصانع وعوادم السيارات	(د) رمي النفايات في البحر
3	تُعرف المشكلة التي يواجهها المرء عندما يكون قادراً على العمل وراغباً فيه ولا يجده عند مستوى الأجر السائد بـ:	(أ) التصحر	(ب) البطالة	(ج) التلوث	(د) التقاعد
4	مع أي تكتل دولي ينسق مجلس التعاون موافقه على الساحة الاقتصادية الدولية؟	(أ) الاتحاد الأوروبي	(ب) منظمة الآسيان	(ج) الاتحاد الإفريقي	(د) مجموعة البريكس
5	تستورد دول مجلس التعاون الماشية لسد الاحتياج من عدة دول، منها:	(أ) السودان	(ب) اليابان	(ج) كندا	(د) النرويج
6	من المعادن ذات الأهمية الصناعية الموجودة في دول مجلس التعاون:	(أ) اليورانيوم	(ب) الفحم الحجري	(ج) البوكسيت	(د) الماس
7	في أي عام تم إنشاء مجلس التنسيق السعودي الإماراتي (خلوة العزم)؟	(أ) 1430هـ (2009م)	(ب) 1435هـ (2014م)	(ج) 1437هـ (2016م)	(د) 1440هـ (2019م)
8	ما السبب الرئيس الذي دفع دول مجلس التعاون لاستقدام العمالة الوافدة في بداية خططها التنموية؟	(أ) رغبة في زيادة عدد السكان	(ب) قلة الأيدي العاملة الوطنية في بعض الأعمال	(ج) انخفاض تكلفة العمالة الوافدة فقط	(د) تنوع الثقافات في المجتمع
9	أي من التالي يُعد من الإنجازات الاقتصادية لمجلس التعاون؟	(أ) تكوين قوة درع الجزيرة	(ب) تحقيق التضامن العربي	(ج) حرية انتقال السلع الوطنية	(د) مكافحة الإرهاب

10	أ) القمح	ب) التمر	ج) الفواكه الاستوائية	د) الأرز	حققت المملكة العربية السعودية الاكتفاء الذاتي من إنتاج:
11	أ) الفلسطينية	ب) البلقانية	ج) الآسيوية	د) اللاتينية	أحد الإنجازات السياسية لمجلس التعاون هو الدعم الدائم للقضية:
12	أ) زيادة فرص العمل للمواطنين	ب) تغير التركيبة السكانية	ج) انخفاض استهلاك الخدمات الأساسية	د) تجانس البيئة الاجتماعية	أي مما يلي يُعد من الآثار السلبية المترتبة على زيادة العمالة الوافدة في دول مجلس التعاون؟
13	أ) قلة الأمطار	ب) زحف الرمال	ج) الجفاف الناشئ طبيعياً	د) الرعي الجائر وقطع الأشجار	أحد الأسباب البشرية التي تؤدي إلى ظاهرة التصحر هو:
14	أ) التقنية الحديثة	ب) الحرف اليدوية	ج) المصانع الكبرى	د) الإنتاج الضخم	كانت الصناعة في دول مجلس التعاون في الماضي تعتمد على:
15	أ) درع الجزيرة	ب) عاصفة الصحراء	ج) الدرع العربي	د) قوة الردع المشترك	ما هو الاسم الذي أطلق على القوة العسكرية الموحدة للتدخل السريع لدول مجلس التعاون؟
السؤال 2: ضع علامة (✓) أو (X) أمام العبارات التالية:					
15					

#	العبارة	الإجابة
1	خصصت دول مجلس التعاون أسبوعاً توعوياً في مجال الرعاية البيئية يُسمى أسبوع الشجرة.	✓
2	يُسمح لمواطني دول مجلس التعاون بممارسة عدد من المهن بالدول الأعضاء.	✓
3	أدى تزايد استقدام العمالة الوافدة إلى تكوين بيئة اجتماعية غير متجانسة في دول مجلس التعاون.	✓
4	أدى اكتشاف النفط إلى ظهور أنشطة اقتصادية جديدة وتغير حياة السكان في دول الخليج.	✓
5	تعتبر اتفاقية الدفاع المشترك من الإنجازات الاقتصادية لدول مجلس التعاون.	X
6	تُعد البطالة من أسباب الاستقرار الاجتماعي ولا ينتج عنها أي آثار سلبية.	X
7	يكفي الإنتاج الزراعي والحيواني المحلي في دول مجلس التعاون كافة طلبات السوق المتزايدة.	X
8	التوسع العمراني وإقامة المشروعات على حساب الغطاء النباتي يساهم في الحد من التصحر.	X
9	تشابه الأنشطة الاقتصادية لسكان دول مجلس التعاون قديماً وحديثاً.	✓
10	يُعد الدين الإسلامي من أبرز الخصائص المشتركة لسكان دول مجلس التعاون.	✓
11	يعتبر تسرب النفط ورمي مخلفات المصانع من أسباب تلوث المياه.	✓
12	قلت أهمية صيد الأسماك كحرفة بعد ظهور النفط، ولم تُسن أي قوانين لتنظيمه.	X
13	من الإنجازات السياسية دعم وحدة الجمهورية العراقية والجمهورية اليمنية واستقرارهما.	✓
14	يُعد مجلس التنسيق السعودي الإماراتي نموذجاً رائداً للتعاون الثنائي.	✓
15	يتم معاملة مواطني دول المجلس معاملة الأجانب في المستشفيات والمراكز الصحية الحكومية.	X

المادة : الدراسات الاجتماعية	رؤية VISION 2030 وزارة التعليم	إدارة تعليم مدرسة	المملكة العربية السعودية وزارة التعليم
الصف: الثاني متوسط			اسم الطالب/ة:
اختبار الوحدة ٥ الفصل ٢			

## السؤال الأول: اختر الإجابة الصحيحة فيما يلي :

١	تقع دول الخليج العربي بالنسبة لقارة آسيا				
أ	جنوب غرب	ب	جنوب شرق	ج	شمال شرق
د	شمال غرب				
٢	" حار رطب صيفاً , معتدل شتاءً " يتركز هذا المناخ في دول الخليج على				
أ	المناطق المنخفضة	ب	المناطق الداخلية	ج	المناطق الساحلية
د	المرتفعات				
٣	دائرة العرض التي تمر بدول مجلس التعاون				
أ	السرطان	ب	الاستواء	ج	الجدى
د	جرينتش				
٤	بلغ عدد سكان دول الخليج العربي في عام ١٤٤١ هـ حوالي:				
أ	٥٧,٧ مليون نسمة	ب	٤٤,٥ مليون نسمة	ج	٦٤,٥ مليون نسمة
د	٧٤,٥ مليون نسمة				
٥	يقع الجبل الأخضر في				
أ	البحرين	ب	قطر	ج	الكويت
د	عُمان				
٦	يربط مضيق هرمز الخليج العربي بالمحيط				
أ	الهادي	ب	الهندي	ج	الاطلسي
د	المتجمد الشمالي				
٧	أصغر دول مجلس التعاون من حيث المساحة				
أ	البحرين	ب	قطر	ج	الكويت
د	الإمارات				
٨	حققت المملكة العربية السعودية بشكل خاص الاكتفاء الذاتي من إنتاج				
أ	التمور	ب	القمح	ج	الأرز
د	الفاكهة				
٩	من أهم العوامل المؤثرة في مناخ دول الخليج العربي				
أ	الرياح والمرتفعات	ب	توزيع اليابس والماء	ج	الموقع الفلكي
د	جميع ما ذكر				
١٠	مقر مجلس التعاون الخليجي				
أ	الرياض	ب	أبو ظبي	ج	الكويت
د	مسقط				
١١	من التحديات البيئية التي تواجه دول الخليج العربية				
أ	البراكين	ب	الزلازل	ج	التصحّر
د	الأعاصير				
١٢	من الخصائص المشتركة بين دول مجلس التعاون				
أ	الدين	ب	اللغة	ج	العادات والتقاليد
د	جميع ما ذكر				

السؤال الثاني: ضع إشارة ( √ ) أمام الإجابة الصحيحة وإشارة ( × ) أمام الإجابة الخاطئة:

١	عدد دول مجلس التعاون الخليجي ( ٧ ) دول
٢	يهدف مجلس التعاون إلى تحقيق التعاون والتكامل بين الدول الأعضاء
٣	النفط والغاز من أهم الموارد الاقتصادية لدول مجلس التعاون
٤	تهدف السوق الخليجية المشتركة إلى تسهيل انتقال السلع ورؤوس الأموال
٥	تحقيق النضامن و الوحدة العربية الاسلامية من الانجازات الاقتصادية لمجلس التعاون الخليجي
٦	يعقد المجلس الأعلى اجتماعاته كل ثلاثة أشهر
٧	التصحّر هو " تدهور الأراضي الزراعية والرعية "
٨	التلوث هو " إضافة أشياء ضارة إلى الماء أو الهواء أو التربة "
٩	إنشاء المحميات الطبيعية ساهمت في المحافظة على الغطاء النباتي
١٠	عملت دول مجلس التعاون " موازنة بين العمالة الوطنية والعمالة الوافدة "
١١	من الأشجار في دول المجلس " الخزامي والاقحوان "
١٢	تطل دول مجلس التعاون على أربع بحار
١٣	جزيرة حالول تقع في قطر
١٤	مدينة صلالة تقع في البحرين
١٥	تحسن الخدمات الصحية ساهمت في نمو سكان دول الخليج
١٦	إنشاء السدود ساهم في تحقيق الامن الغذائي في دول مجلس التعاون الخليجي
١٧	البطالة هي ألا يجد المرء وهو غير قادر عليه
١٨	تأسس مجلس التعاون لدول الخليج العربية عام ١٤١٠ هـ

لاسم

٩	٨	٧	٦	٥	٤	٣	٢	١	٠
٩	٨	٧	٦	٥	٤	٣	٢	١	٠
٩	٨	٧	٦	٥	٤	٣	٢	١	٠

---

١	٢	٣	٤	٥	٦	٧	٨	٩	١٠	١١	١٢	١٣	١٤
١	٢	٣	٤	٥	٦	٧	٨	٩	١٠	١١	١٢	١٣	١٤
١	٢	٣	٤	٥	٦	٧	٨	٩	١٠	١١	١٢	١٣	١٤
١	٢	٣	٤	٥	٦	٧	٨	٩	١٠	١١	١٢	١٣	١٤

---

١	٢	٣	٤	٥	٦	٧	٨	٩	١٠	١١	١٢	١٣	١٤
١	٢	٣	٤	٥	٦	٧	٨	٩	١٠	١١	١٢	١٣	١٤
١	٢	٣	٤	٥	٦	٧	٨	٩	١٠	١١	١٢	١٣	١٤
١	٢	٣	٤	٥	٦	٧	٨	٩	١٠	١١	١٢	١٣	١٤

انتهت الاسئلة

١	تقع دول الخليج العربي بالنسبة لقارة آسيا	أ	جنوب غرب	ب	جنوب شرق	ج	شمال شرق	د	شمال غرب
٢	" حار رطب صيفاً , معتدل شتاءً " يتركز هذا المناخ في دول الخليج على	أ	المناطق المنخفضة	ب	المناطق الداخلية	ج	المناطق الساحلية	د	المرتفعات
٣	دائرة العرض التي تمر بدول مجلس التعاون	أ	السرطان	ب	الاستواء	ج	الجدى	د	جرينتش
٤	بلغ عدد سكان دول الخليج العربي في عام ١٤٤١ هـ حوالي:	أ	٥٧,٧ مليون نسمة	ب	٤٤,٥ مليون نسمة	ج	٦٤,٥ مليون نسمة	د	٧٤,٥ مليون نسمة
٥	يقع الجبل الأخضر في	أ	البحرين	ب	قطر	ج	الكويت	د	عُمان
٦	يربط مضيق هرمز الخليج العربي بالمحيط	أ	الهادي	ب	الهندي	ج	الاطلسي	د	المتجمد الشمالي
٧	أصغر دول مجلس التعاون من حيث المساحة	أ	البحرين	ب	قطر	ج	الكويت	د	الإمارات
٨	حققت المملكة العربية السعودية بشكل خاص الاكتفاء الذاتي من إنتاج	أ	التمور	ب	القمح	ج	الأرز	د	الفاكهة
٩	من أهم العوامل المؤثرة في مناخ دول الخليج العربي	أ	الرياح والمرتفعات	ب	توزيع اليابس والماء	ج	الموقع الفلكي	د	جميع ما ذكر
١٠	مقر مجلس التعاون الخليجي	أ	الرياض	ب	أبو ظبي	ج	الكويت	د	مسقط
١١	من التحديات البيئية التي تواجه دول الخليج العربية	أ	البراكين	ب	الزلازل	ج	التصحّر	د	الأعاصير
١٢	من الخصائص المشتركة بين دول مجلس التعاون	أ	الدين	ب	اللغة	ج	العادات والتقاليد	د	جميع ما ذكر

السؤال الثاني: ضع إشارة ( √ ) أمام الإجابة الصحيحة وإشارة ( × ) أمام الإجابة الخاطئة:

×	عدد دول مجلس التعاون الخليجي ( ٧ ) دول	١
✓	يهدف مجلس التعاون إلى تحقيق التعاون والتكامل بين الدول الأعضاء	٢
✓	النفط والغاز من أهم الموارد الاقتصادية لدول مجلس التعاون	٣
✓	تهدف السوق الخليجية المشتركة إلى تسهيل انتقال السلع ورؤوس الأموال	٤
×	تحقيق التضامن و الوحدة العربية الاسلامية من الانجازات الاقتصادية لمجلس التعاون الخليجي	٥
×	يعقد المجلس الأعلى اجتماعاته كل ثلاثة أشهر	٦
✓	التصحّر هو " تدهور الأراضي الزراعية والرعية "	٧
✓	التلوث هو " إضافة أشياء ضارة إلى الماء أو الهواء أو التربة "	٨
✓	إنشاء المحميات الطبيعية ساهمت في المحافظة على الغطاء النباتي	٩
✓	عملت دول مجلس التعاون " موازنة بين العمالة الوطنية والعمالة الوافدة "	١٠
×	من الأشجار في دول المجلس " الخزامي والاقحوان "	١١
✓	تطل دول مجلس التعاون على أربع بحار	١٢
✓	جزيرة حالول تقع في قطر	١٣
×	مدينة صلالة تقع في البحرين	١٤
✓	تحسن الخدمات الصحية ساهمت في نمو سكان دول الخليج	١٥
✓	إنشاء السدود ساهم في تحقيق الامن الغذائي في دول مجلس التعاون الخليجي	١٦
×	البطالة هي ألا يجد المرء وهو غير قادر عليه	١٧
×	تأسس مجلس التعاون لدول الخليج العربية عام ١٤١٠ هـ	١٨

الاسم

١	أ	ب	ج	د	٦	أ	ب	ج	د		
٢	أ	ب	ج	د	٧	أ	ب	ج	د		
٣	أ	ب	ج	د	٨	أ	ب	ج	د		
٤	أ	ب	ج	د	٩	أ	ب	ج	د		
٥	أ	ب	ج	د	١٠	أ	ب	ج	د		
٦	أ	ب	ج	د	١١	أ	ب	ج	د		
١	ص	خ	٦	ص	خ	١١	ص	خ	١٦	ص	خ
٢	ص	خ	٧	ص	خ	١٢	ص	خ	١٧	ص	خ
٣	ص	خ	٨	ص	خ	١٣	ص	خ	١٨	ص	خ
٤	ص	خ	٩	ص	خ	١٤	ص	خ	١٩	ص	خ
٥	ص	خ	١٠	ص	خ	١٥	ص	خ	٢٠	ص	خ

انتهت الاسئلة

15	الدرجة	محمد القرني	اسم الطالب/ة
----	--------	-------------	--------------

السؤال الاول ضع/ي علامة ( √ ) امام العبارة الصائبة وعلامة ( x ) امام العبارة الخاطئة ؟

1	تمتلك دول مجلس التعاون الخليجي موارد اقتصادية لها تأثير كبير في اقتصاديات العالم
2	من مميزات موقع دول مجلس التعاون انه يتوسط بين ثلاث قارات (آسيا و افريقيا و اوروبا)
3	تشهد دول مجلس التعاون نمواً سكانياً بسبب زيادة الموارد و تحسّن الخدمات الصحية
4	تأسس مجلس التعاون الخليجي عام 1410هـ
5	العمالة الوافدة و البطالة و التصحر من اهم التحديات التي تواجه دول مجلس التعاون

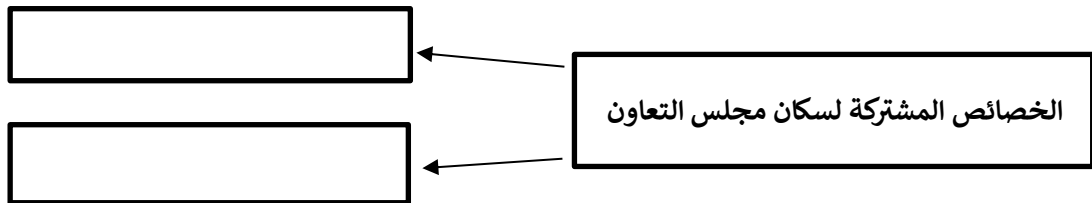
السؤال الثاني ضع/ي الأرقام الموجودة أمام المجموعة الأولى أمام ما يناسبها من المجموعة الثانية ؟

الرقم	دول مجلس التعاون الخليجي	الرقم	عواصم دول مجلس التعاون الخليجي
1	المملكة العربية السعودية		مسقط
2	مملكة البحرين		الرياض
3	سلطنة عمان		الكويت
4	دولة قطر		المنامة
			الدوحة

السؤال الثالث قارن بين ( المجلس الأعلى ) و ( المجلس الوزاري ) وفق الجدول أدناه ؟

المجلس الاعلى	وجه المقارنة	المجلس الوزاري
	مما يتكون (أعضائه)	
	عقد اجتماعاته ( في العام )	

السؤال الرابع أكمل خرائط المفاهيم التالية ؟



← انتهت الاسئلة ←

معلم المادة: محمد القرني

مدير المدرسة:  
موقع

نموذج اجابة اختبار الوحدة  
المادة: الدراسات الاجتماعية  
الصف: الثاني المتوسط  
وحدة مجلس التعاون الخليجي  
1447هـ

# نموذج الاجابة

المملكة العربية السعودية  
وزارة التعليم  
الادارة العامة للتعليم بمنطقة  
مدرسة .....

اسم الطالب/ة	محمد القرني	الدرجة	15	15
--------------	-------------	--------	----	----

السؤال الاول ضع/ي علامة ( √ ) امام العبارة الصائبة وعلامة ( x ) امام العبارة الخاطئة ؟

1	تمتلك دول مجلس التعاون الخليجي موارد اقتصادية لها تأثير كبير في اقتصاديات العالم	√
2	من مميزات موقع دول مجلس التعاون انه يتوسط بين ثلاث قارات (آسيا و افريقيا و اوربا)	√
3	تشهد دول مجلس التعاون نمواً سكانياً بسبب زيادة الموارد و تحسّن الخدمات الصحية	√
4	تأسس مجلس التعاون الخليجي عام 1410هـ	x
5	العمالة الوافدة و البطالة و التصحر من اهم التحديات التي تواجه دول مجلس التعاون	√

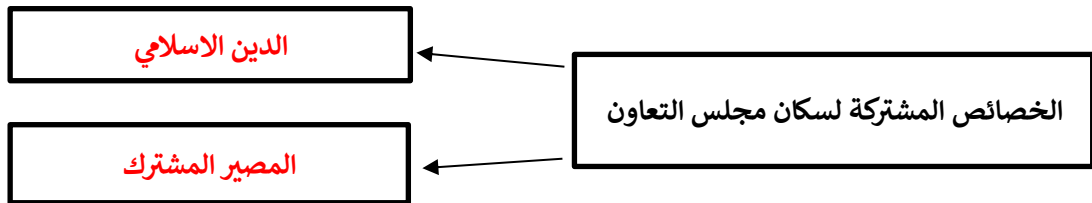
السؤال الثاني ضع/ي الأرقام الموجودة أمام المجموعة الأولى أمام ما يناسبها من المجموعة الثانية ؟

الرقم	دول مجلس التعاون الخليجي	الرقم	عواصم دول مجلس التعاون الخليجي
1	المملكة العربية السعودية	4	مسقط
2	مملكة البحرين	1	الرياض
3	سلطنة عمان	2	الكويت
4	دولة قطر	2	المنامة
		3	الدوحة

السؤال الثالث قارن بين ( المجلس الأعلى ) و ( المجلس الوزاري ) وفق الجدول أدناه ؟

المجلس الاعلى	وجه المقارنة	المجلس الوزاري
( قادة ) ملوك و رؤساء الدول	مما يتكون (أعضائه)	وزراء الخارجية
مرة واحدة	عقد اجتماعاته ( في العام )	كل ثلاثة اشهر مرة واحدة

السؤال الرابع أكمل خرائط المفاهيم التالية ؟



← انتهت الاسئلة ←

مدير المدرسة: .....

معلم المادة: محمد القرني

المادة:	الدراسات الاجتماعية	بسم الله الرحمن الرحيم  وزارة التعليم	المملكة العربية السعودية إدارة التعليم بالطائف مدرسة:
الاختبار:	اختبار الوحدة الأولى		
الصف:	ثاني متوسط		
الفترة:	الأولى للفصل الثاني ١٤٤٧		

# نموذج الإجابة

اسم الطالبة/

السؤال 1: اختر الإجابة الصحيحة:

١٠

1	من المعادن ذات الأهمية الصناعية الموجودة في دول مجلس التعاون:	(أ) اليورانيوم	(ب) الفحم الحجري	(ج) البوكسيت	(د) الماس
2	أحد الإنجازات السياسية لمجلس التعاون هو الدعم الدائم للقضية:	(أ) الآسيوية	(ب) البلقانية	(ج) الفلسطينية	(د) اللاتينية
3	أحد الأسباب البشرية التي تؤدي إلى ظاهرة التصحر هو:	(أ) قلة الأمطار	(ب) زحف الرمال	(ج) الرعي الجائر وقطع الأشجار	(د) الجفاف الناشئ طبيعياً
4	من مظاهر تلوث الهواء في دول مجلس التعاون:	(أ) تسرب النفط	(ب) المبيدات الزراعية	(ج) دخان المصانع وعوادم السيارات	(د) رمي النفايات في البحر
5	ما هو الاسم الذي أطلق على القوة العسكرية الموحدة للتدخل السريع لدول مجلس التعاون؟	(أ) عاصفة الصحراء	(ب) درع الجزيرة	(ج) الدرع العربي	(د) قوة الردع المشترك
6	تُعرف المشكلة التي يواجهها المرء عندما يكون قادراً على العمل ورغباً فيه ولا يجده عند مستوى الأجر السائد بـ:	(أ) التصحر	(ب) البطالة	(ج) التلوث	(د) التقاعد
7	حققت المملكة العربية السعودية الاكتفاء الذاتي من إنتاج:	(أ) التمر	(ب) القمح	(ج) الفواكه الاستوائية	(د) الأرز
8	أكبر دول مجلس التعاون لدول الخليج العربية مساحة هي:	(أ) المملكة العربية السعودية	(ب) الإمارات العربية المتحدة	(ج) سلطنة عمان	(د) دولة الكويت
9	ما السبب الرئيس الذي دفع دول مجلس التعاون لاستخدام العمالة الوافدة في بداية خططها التنموية؟	(أ) قلة الأيدي العاملة الوطنية في بعض الأعمال	(ب) رغبة في زيادة عدد السكان	(ج) انخفاض تكلفة العمالة الوافدة فقط	(د) تنوع الثقافات في المجتمع
10	تقع دول مجلس التعاون لدول الخليج العربية في الجزء الجنوبي الغربي من قارة:	(أ) آسيا	(ب) أوروبا	(ج) إفريقيا	(د) أستراليا

السؤال 2: ضع علامة (✓) أو (X) أمام العبارات التالية:

١٠

1	يتميز مناخ المناطق الساحلية في دول المجلس بأنه حار جاف صيفاً وبارد شتاءً.
2	يُعد الدين الإسلامي من أبرز الخصائص المشتركة لسكان دول مجلس التعاون.
3	وادي دزيبات يقع في المملكة العربية السعودية.
4	من الإنجازات السياسية دعم وحدة الجمهورية العراقية والجمهورية اليمنية واستقرارهما.
5	تقع سهول تهامة على ساحل البحر الأحمر.
6	يُسمح لمواطني دول مجلس التعاون بممارسة عدد من المهن بالدول الأعضاء.
7	يتكون المجلس الأعلى من وزراء خارجية الدول الأعضاء.
8	خصصت دول مجلس التعاون أسبوعاً توعوياً في مجال الرعاية البيئية يُسمى أسبوع الشجرة.
9	يتم معاملة مواطني دول المجلس معاملة الأجانب في المستشفيات والمراكز الصحية الحكومية.
10	يُعد مجلس التنسيق السعودي الإماراتي نموذجاً رائداً للتعاون الثنائي.

السؤال 3: صل بين العمودين: صل بين العمود (أ) والعمود (ب)

5

#	العمود (أ)	العمود (ب)
1	الإنجازات العسكرية	الدعم الدائم للقضية الفلسطينية
2	إنجازات أخرى	التعاون في مكافحة المخدرات
3	الإنجازات الاقتصادية	تنسيق المواقف مع الاتحاد الأوروبي
4	الإنجازات الأمنية	المساواة في معاملة الطلاب
5	الإنجازات السياسية	تكوين قوة درع الجزيرة

السؤال 6: أكمل الفراغات التالية: (البطالة - الأسهم - اللؤلؤ - خلوة العزم - البحرين)

١٠

1	من الإنجازات الاقتصادية السماح للمواطنين والمستثمرين بالحصول على القروض وتملك _____ والعقارات.
2	أصغر دول مجلس التعاون الخليجي من حيث المساحة هي _____
3	اعتمد سكان المناطق الساحلية في الخليج قديماً على استخراج _____
4	رفض الشباب الانخراط في الأعمال المهنية _____
5	يُعرف مجلس التنسيق السعودي الإماراتي باسم _____

نموذج اسئلة اختبار الوحدة  
المادة: الدراسات الاجتماعية  
الصف: الثاني المتوسط  
وحدة الانظمة والمؤاح  
1447هـ

اسم الطالب/ة	محمد القرني	الدرجة	15
--------------	-------------	--------	----

السؤال الاول ضع/ي علامة ( √ ) امام العبارة الصائبة وعلامة ( x ) امام العبارة الخاطئة ؟

1	من نتائج تطبيق نظام مكافحة الرشوة ( تحقيق العدالة و تكافؤ الفرص )
2	اللوائح ثلاثة انواع ( تنظيمية و تنفيذية و ضبط )
3	تصدر الانظمة الاساسية بأمر ملكي
4	من الانظمة الاساسية في وطني ( النظام الاساسي للحكم )
5	الاقرار و الاصدار ( اول مراحل صدور النظام )

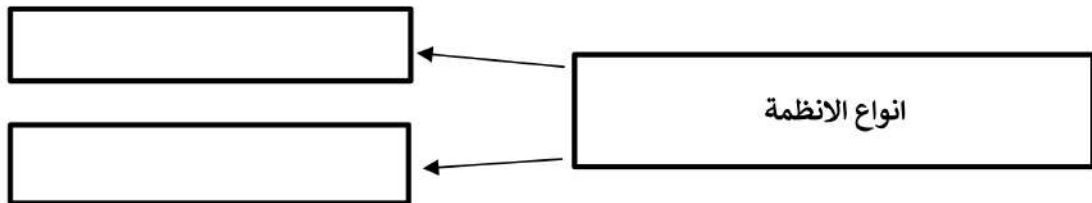
السؤال الثاني ضع/ي الأرقام الموجودة أمام المجموعة الأولى أمام ما يناسبها من المجموعة الثانية ؟

الرقم	دول مجلس التعاون الخليجي	الرقم	عواصم دول مجلس التعاون الخليجي
1	احكام و قواعد ملزمة		اللائحة
2	هي التي تفسر النظام		أم القرى
3	من فوائد الانظمة		عكاظ
4	الجريدة الرسمية التي تُنشر فيها الانظمة		حماية الفرد
			النظام

السؤال الثالث قارن بين ( المجلس الأعلى ) و ( المجلس الوزاري ) وفق الجدول أدناه ؟

النظام	وجه المقارنة	اللائحة
	السمة	
	التعديل	

السؤال الرابع أكمل خرائط المفاهيم التالية ؟



← انتهت الاسئلة ←

مدير المدرسة: .....

معلم المادة: محمد القرني

# نموذج الاجابة

اسم الطالب/ة	محمد القرني ( اجابة )	الدرجة	15
--------------	-----------------------	--------	----

السؤال الاول ضع/ي علامة ( √ ) امام العبارة الصائبة وعلامة ( x ) امام العبارة الخاطئة ؟

1	من نتائج تطبيق نظام مكافحة الرشوة ( تحقيق العدالة و تكافؤ الفرص )	√
2	اللوائح ثلاثة انواع ( تنظيمية و تنفيذية و ضبط )	√
3	تصدر الانظمة الاساسية بأمر ملكي	√
4	من الانظمة الاساسية في وطني ( النظام الاساسي للحكم )	√
5	الاقرار و الاصدار ( اول مراحل صدور النظام )	x

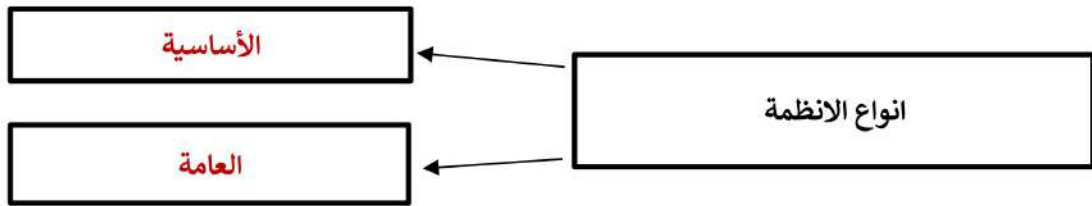
السؤال الثاني ضع/ي الأرقام الموجودة أمام المجموعة الأولى أمام ما يناسبها من المجموعة الثانية ؟

الرقم	دول مجلس التعاون الخليجي	الرقم	عواصم دول مجلس التعاون الخليجي
1	احكام و قواعد مُلزِمة	2	اللائحة
2	هي التي تُفسّر النظام	4	أم القرى
3	من فوائد الانظمة	3	عكاظ
4	الجريدة الرسمية التي تُنشر فيها الانظمة	3	حماية الفرد
		1	النظام

السؤال الثالث قارن بين ( المجلس الأعلى ) و ( المجلس الوزاري ) وفق الجدول أدناه ؟

النظام	وجه المقارنة	اللائحة
عام	السّمة	مفصل
قليل جداً	التّعديل	كثير

السؤال الرابع أكمل خرائط المفاهيم التالية ؟



← انتهت الاسئلة ←

مدير المدرسة: .....

معلم المادة: محمد القرني

المادة : الدراسات الاجتماعية	رؤية 2030 وزارة التعليم	إدارة تعليم مدرسة	المملكة العربية السعودية
الصف: ٢م			وزارة التعليم
اختبار الوحدة ٦ الفصل ٢			اسم الطالب/ة:

السؤال الأول: اختر الإجابة الصحيحة فيما يلي :

١	مراحل صدور النظام			
أ	٥ مراحل	ب	٦ مراحل	ج
٢	الجهة المسؤولة عن دراسة مشروع النظام ومراجعته وتقديم التوصيات بشأنه قبل مجلس الوزراء هي:			
أ	مجلس الشورى.	ب	هيئة الخبراء.	ج
٣	الفوائد التي تتعلق بتحقيق التطوير والنمو المستدام هي فوائد			
أ	اقتصادية	ب	اجتماعية	ج
٤	تصدر الأنظمة العامة التي تختص بموضوعات عامة أو الأجهزة الإدارية			
أ	بأمر سام		بمرسوم ملكي	ب
٥	تأتي مرحلة إقرار النظام في مجلس الوزراء مباشرة بعد مرحلة:			
أ	النشر	ب	الإصدار	ج
٦	قواعد السير للمركبات وقواعد الطريق			
أ	لائحة تنفيذية	ب	لائحة تنظيمية	ج
٧	تنظيم وترتيب عمل المرفقات العامة			
أ	لائحة تنفيذية	ب	لائحة تنظيمية	ج
٨	مراقبة الأغذية والباعة المتجولين			
أ	لائحة تنفيذية	ب	لائحة تنظيمية	ج
٩	نظام مكافحة الجرائم المعلوماتية			
أ	النظام الأساسي	ب	النظام العامة	ج
١٠	نظام مجلس الوزراء			
أ	النظام الأساسي	ب	النظام العامة	ج
١١	تنشر الأنظمة في المملكة في جريدة			
أ	أم القرى	ب	عكاظ	ج
١٢	المرحلة الثانية من مراحل صدور النظام هي			
أ	الاقتراح		الإعداد والتحضير	ب

تابع خلف الورقة

السؤال الثاني: ضع إشارة ( √ ) أمام الإجابة الصحيحة وإشارة ( × ) أمام الإجابة الخاطئة:

١	اللوائح هي "قواعد وأحكام عامة مُلزِمة"
٢	أداة إصدار الأنظمة العامة " أمر ملكي"
٣	أداة إصدار الأنظمة الأساسية " مرسوم ملكي"
٤	تنقسم الأنظمة الى نوعين أنظمة أساسية وأنظمة عامة
٥	الرشوة من المشكلات الاجتماعية التي عالجتها الأنظمة و اللوائح
٦	إلزام سائقي السيارات بحزام الأمان من اللوائح التنظيمية
٧	نظام حماية الطفل هو مثال على تطبيق الأنظمة لمعالجة المشكلات الاجتماعية.
٨	الهدف الرئيسي من لوائح الضبط هو حماية الأمن والصحة العامة
٩	تصدر الأنظمة الأساسية بأمر ملكي لأنها تتعلق بأساس الدولة.
١٠	تختص اللوائح التنظيمية بترتيب عمل المرافق العامة وتحديد اختصاصاتها
١١	تقتصر فوائد الأنظمة واللوائح على تنظيم عمل الأجهزة الحكومية فقط.
١٢	لوائح الضبط " تصدرها الجهات التنفيذية
١٣	نظام هيئة البيعة يصدر بمرسوم ملكي
١٤	نظام الإقامة يصدر بأمر ملكي
١٥	الأنظمة العامة هي التي تختص بموضوعات عامة أو تختص بأحكام الأجهزة الإدارية
١٦	التعديل في النظام " كثير "
١٧	أول مراحل صدور النظام هو الاقتراح
١٨	آخر مراحل صدور النظام هو النشر

الاسم

موقع ما دنيري

١	أ	ب	ج	د	٧	أ	ب	ج	د
٢	أ	ب	ج	د	٨	أ	ب	ج	د
٣	أ	ب	ج	د	٩	أ	ب	ج	د
٤	أ	ب	ج	د	١٠	أ	ب	ج	د
٥	أ	ب	ج	د	١١	أ	ب	ج	د
٦	أ	ب	ج	د	١٢	أ	ب	ج	د
١	صح	خطأ	٧	صح	خطأ	١٣	صح	خطأ	
٢	صح	خطأ	٨	صح	خطأ	١٤	صح	خطأ	
٣	صح	خطأ	٩	صح	خطأ	١٥	صح	خطأ	
٤	صح	خطأ	١٠	صح	خطأ	١٦	صح	خطأ	
٥	صح	خطأ	١١	صح	خطأ	١٧	صح	خطأ	
٦	صح	خطأ	١٢	صح	خطأ	١٨	صح	خطأ	

انتهت الأسئلة

## مراجعة اجتماعيات ثاني متوسط الفصل الثاني 1447

أ/ فيصل الحربي	<b>نموذج الإجابة</b>			الوحدة ٥
<b>السؤال الأول: اختر الإجابة الصحيحة فيما يلي :</b>				
١	ما المدينة التي تم اختيارها لتكون مقراً لمجلس التعاون لدول الخليج العربية؟			
	أبوظبي	<b>الرياض</b>	الدوحة	الكويت
٢	معاملة مواطني دول المجلس معاملة المواطن في المستشفيات العامة والمراكز الصحية تعتبر من:			
	الإنجازات العسكرية	<b>الإنجازات الأخرى (الاجتماعية)</b>	الإنجازات الاقتصادية	الإنجازات السياسية
٣	أي من الأنشطة التالية يعد من الأسباب البشرية المباشرة للتصحّر؟			
	قلة الأمطار	<b>الرعي الجائر</b>	زحف الرمال	الجفاف
٤	نباتات الخزامى والأقحوان التي تظهر بعد سقوط المطر مباشرة تصنف ضمن:			
	النباتات الساحلية	<b>الأعشاب الحولية</b>	الشجيرات الصحراوية	الأشجار المعمرة
٥	في أي عام ميلادي تم تأسيس مجلس التعاون لدول الخليج العربية؟			
	م2001	م1991	<b>م1981</b>	م1971
٦	ما هو السبب الرئيسي الذي أدى إلى استقطاب أعداد كبيرة من الأيدي العاملة إلى دول مجلس التعاون؟			
	سهولة الحصول على الأراضي الزراعية	<b>توافر فرص العمل في المشاريع التنموية</b>	انخفاض الأسعار	تحسن المناخ
٧	أي من مظاهر السطح التالية عبارة عن حقول من الحمم البركانية القديمة؟			
	<b>الحرث</b>	الأودية	الهضاب	الكتبان الرملية
٨	يُعرف تدهور الأراضي الزراعية والرعية وتحولها إلى مناطق قاحلة بمشكلة:			
	العمالة الوافدة	<b>التصحّر</b>	البطالة	التلوث البيئي
٩	أي من الدول التالية تمتلك أكبر مساحة ضمن دول مجلس التعاون؟			
	<b>المملكة العربية السعودية</b>	قطر	الإمارات العربية المتحدة	سلطنة عُمان
١٠	أي من الأجهزة التالية يجتمع مرة كل ثلاثة أشهر؟			
	لجنة تنسيق المواقف	الأمانة العامة	<b>المجلس الوزاري</b>	المجلس الأعلى
١١	حققت المملكة العربية السعودية الاكتفاء الذاتي في إنتاج محصول استراتيجي مهم ما هو؟			

الأرز	التمور	القطن	الشاي
١٢: اتفاقية الدفاع المشترك بين دول مجلس التعاون تدرج ضمن الإنجازات			
الاقتصادية	الثقافية	السياسية	العسكرية والأمنية
١٣: أي من الخصائص التالية لا يعتبر من الخصائص المشتركة الأساسية لسكان دول مجلس التعاون؟			
الدين الإسلامي	الأصل العربي الواحد	اللغة العربية	تشابه المحاصيل الزراعية بشكل كامل
١٤: أي من القضايا التالية تحظى بدعم دائم من مجلس التعاون في جميع المحافل الدولية؟			
قضايا البيئة العالمية	القضية الفلسطينية	قضايا التجارة الحرة	قضايا النزاعات الأوروبية
١٥: أي من التالي يعد من الآثار الاجتماعية المباشرة لزيادة العمالة الوافدة؟			
زيادة الصادرات الصناعية	تكوين بيئة اجتماعية غير متجانسة	انخفاض أسعار العقارات	تحسن جودة الهواء
١٦: بماذا يتميز مناخ المرتفعات الجنوبية الغربية في المملكة العربية السعودية صيفاً؟			
شديد الحرارة والجفاف	معتدل الحرارة مع أمطار صيفية	حار ورطب	بارد وجاف
١٧: لماذا تستورد دول مجلس التعاون اللحوم والماشية رغم جهودها في تنمية الثروة الحيوانية؟			
لأن المراعي الطبيعية غير كافية	لأن الطلب المتزايد يفوق الإنتاج المحلي	لعدم وجود خبرات بيطرية	لأنها أرخص من الإنتاج المحلي
١٨: ما هو العامل الأساسي الذي ساعد على تطور الصناعة الحديثة في دول مجلس التعاون؟			
كثرة الأنهار	توفر مصادر الطاقة (النفط والغاز ورأس المال)	وجود غابات كثيفة	الاعتماد على الحرف اليدوية فقط
١٩: ما هو الممر المائي الاستراتيجي الذي يربط الخليج العربي بالمحيط الهندي وتشرف عليه دول المجلس؟			
مضيق باب المندب	قناة السويس	مضيق هرمز	مضيق جبل طارق
٢٠: يتكون المجلس الأعلى في مجلس التعاون من			
وزراء الخارجية	وزراء الدفاع	الأمراء العامين	قادة الدول الأعضاء

أحد الأسباب الرئيسية لظهور مشكلة البطالة في دول المجلس هو اتجاه أصحاب العمل إلى العمالة الوافدة بسبب				٢١
صعوبة تدريب المواطنين	<b>انخفاض أجورهم</b>	إتقانهم للغة العربية	خبرتهم التقنية العالية	
من الإنجازات الاقتصادية التي تتيح للمواطنين والمستثمرين ممارسة أنشطتهم في دول المجلس				
دعم وحدة الجمهورية اليمنية	<b>السماح بالحصول على القروض وتملك الأسهم والعقارات</b>	التعاون في مجال مكافحة المخدرات	تنسيق المواقف في المحافل الدولية	٢٢
أي مما يلي يُعد من الأهداف الرئيسية لمجلس التعاون؟				
التركيز على القضايا المحلية فقط	<b>تحقيق التنسيق والتكامل بين الدول الأعضاء</b>	فرض أنظمة موحدة على العالم	منافسة المنظمات الدولية	٢٣
تسرب النفط ورمي مخلفات المصانع في المسطحات المائية يعتبران من مظاهر				
<b>تلوث الماء</b>	التصحّر	تلوث التربة	تلوث الهواء	٢٤
أي من التالي يعد من الإنجازات العسكرية لمجلس التعاون؟				
معاملة الطلاب	دعم القضية الفلسطينية	<b>تكوين قوة درع الجزيرة</b>	حرية انتقال السلع الوطنية	٢٥
السؤال الثاني :				
ضع علامة صح ( ✓ ) او علامة خطأ ( × ) امام العبارات التالية :				
×	١. تعد جبال الحجاز من أبرز المرتفعات في سلطنة عُمان			
✓	٢. كان استقدام العمالة الوافدة ضرورة لمواجهة التمنية الشاملة في بداياتها			
✓	٣. اتفاقية الدفاع المشترك تعني أن أي اعتداء على دولة عضو هو اعتداء على جميع دول المجلس			
×	٤. يقتصر التعاون الأمني بين دول مجلس التعاون على مكافحة الإرهاب فقط			
×	٥. تعتمد دول مجلس التعاون بشكل كامل على الإنتاج الزراعي المحلي لتلبية كافة احتياجاتها الغذائية			
×	٦. يعد تنسيق المواقف مع الاتحاد الأوروبي مثلاً على الإنجازات السياسية لمجلس التعاون			
✓	٧. يُسمح لمواطني دول مجلس التعاون بممارسة عدد من المهن في الدول الأعضاء الأخرى			
✓	٨. النمو الاقتصادي السريع يمكن أن ينتج عنه تحديات بيئية واجتماعية			

×	٩	تقتصر مشكلة البطالة على عدم الرغبة في العمل وليست مرتبطة بتوفر الفرص.
✓	١٠	تأسس مجلس التعاون لدول الخليج العربية بهدف تعميق الروابط وتحقيق التعاون بين شعوب المنطقة.
✓	١١	يعقد المجلس الأعلى اجتماعاته مرة كل ثلاثة أشهر.
✓	١٢	كان لصيد الأسماك واستخراج اللؤلؤ دور مهم في اقتصاد سكان المناطق الساحلية بدول المجلس قديماً.
✓	١٣	يهدف مجلس التعاون إلى تحقيق التضامن العربي والإسلامي كجزء من إنجازاته السياسية.
✓	١٤	إنشاء المحميات الطبيعية هو أحد جهود دول مجلس التعاون لمكافحة التصحر.
×	١٥	الأمانة العامة هي أعلى سلطة في هيكل مجلس التعاون.
✓	١٦	تعتبر زيادة الموارد الاقتصادية الناتجة عن النفط أحد أهم أسباب النمو السكاني في دول مجلس التعاون.
✓	١٧	تنمو أشجار مثل السمر والطلح في دول الخليج لقدرتها على تحمل الجفاف ودرجات الحرارة المرتفعة.
×	١٨	تقع دول مجلس التعاون لدول الخليج العربية في الجزء الشمالي الشرقي من قارة آسيا.
✓	١٩	تتأثر المناطق الساحلية في دول المجلس بارتفاع نسبة الرطوبة بسبب قربها من المسطحات المائية.
×	٢٠	يتشابه المناخ في جميع مناطق دول مجلس التعاون، فهو حار وجاف طوال العام.
×	٢١	يتكون المجلس الوزاري من قادة الدول الأعضاء في مجلس التعاون.
✓	٢٢	أحد أهداف مجلس التعاون هو وضع أنظمة متماثلة في مختلف الميادين بين دوله.
×	٢٣	اقتصرت الصناعة في دول مجلس التعاون على الحرف اليدوية البسيطة حتى الوقت الحاضر.
✓	٢٤	اللغة العربية والدين الإسلامي هما من أبرز الخصائص المشتركة التي توحد شعوب دول مجلس التعاون.
×	٢٥	يحدث التلوث البيئي فقط بسبب عوامل طبيعية لا دخل للإنسان فيها.

## الوحدة ٦

السؤال الأول: اختر الإجابة الصحيحة فيما يلي :

أي من الأنظمة التالية يعتبر نظاماً أساسياً يتعلق بأساس الدولة؟			
١	نظام حماية الطفل	نظام مجلس الوزراء	نظام البنك المركزي
ما هو الهدف الرئيسي من لوائح الضبط؟			
٢	تنظيم عمل الوزارات	تفصيل نظام قائم	حماية الأمن والصحة العامة
يهدف نظام مكافحة الجرائم المعلوماتية بشكل أساسي إلى			
٣	زيادة الأرباح التجارية	تحقيق الأمن المعلوماتي وحماية الخصوصية	تنظيم العلاقات بين الموظفين
أي من التالي يعد مثلاً على فائدة اجتماعية للأنظمة؟			
٤	تنظيم عمل الوزارات	تحفيز الاقتصاد الوطني	حماية الأفراد من الإيذاء
...نظام الهيئة العامة للغذاء والدواء يُصنف ضمن الأنظمة			
٥	الأساسية	العامة الخاصة بتنظيم الأجهزة الحكومية	العامة الخاصة بموضوعات عامة
...اللائحة التي تصدر لتفصيل أحكام نظام معين وتوضح كيفية تطبيقه هي لائحة			
٦	تنظيمية	ضبط	تنفيذية
:الفوائد التي تتعلق بتحقيق التطوير والنمو المستدام هي فوائد			
٧	اقتصادية	اجتماعية	تنظيمية
بماذا تصدر الأنظمة العامة التي تختص بموضوعات عامة أو الأجهزة الإدارية؟			
٨	بأمر سام	بمرسوم ملكي	بأمر ملكي
ما الخاصية التي يتميز بها (النظام (مقارنة بـ) اللائحة)؟			
٩	أنه أكثر تفصيلاً	يتم تعديله بشكل مستمر	أنه أكثر عمومية وشمولاً
:تأتي مرحلة إقرار النظام في مجلس الوزراء مباشرة بعد مرحلة			
١٠	النشر في الجريدة الرسمية	الإصدار بمرسوم ملكي	الدراسة والمراجعة في مجلس الشورى
:الأداة النظامية التي تصدر بها الأنظمة العامة بعد إقرارها من مجلس الوزراء هي			
١١			

	قرار ملكي	قرار وزاري	قرار مجلس الشورى	مرسوم ملكي
١٢	الجهة المسؤولة عن دراسة مشروع النظام ومراجعته وتقديم التوصيات بشأنه قبل مجلس الوزراء هي	مجلس الشورى	هيئة الخبراء	الوزارة المقترحة للنظام
	الديوان الملكي			
	يؤدي الالتزام بالأنظمة إلى تحقيق العدل والمساواة بين جميع أفراد المجتمع من خلال			
١٣	تفضيل فئة على أخرى	تطبيق القوانين على الجميع دون تمييز	السماح بالتجاوزات الشخصية	إلغاء جميع القواعد
١٤	معالجة مشكلة الرشوة في المؤسسات الحكومية تندرج ضمن أهداف نظام	حماية الطفل	الجرائم المعلوماتية	مكافحة الرشوة
	نظام المرور			
١٥	أي من التالي يصف اللائحة بشكل دقيق؟	قواعد تنفيذية تفصيلية لنظام محدد	تصدر بأمر من الملك مباشرة	لا يمكن تعديلها إلا نادراً
	قواعد وأحكام عامة وملزمة			
السؤال الثاني :				
ضع علامة صح ( ✓ ) او علامة خطأ ( x ) امام العبارات التالية :				
١	اللائحة أعم وأشمل من النظام			×
٢	مرحلة النشر هي آخر مراحل صدور النظام وتتم في الصحيفة الرسمية			✓
٣	تقتصر فوائد الأنظمة واللوائح على تنظيم عمل الأجهزة الحكومية فقط			×
٤	الأنظمة العامة والأنظمة الأساسية تصدران بنفس الأداة القانونية			×
٥	يصدر النظام في المملكة العربية السعودية بموجب مرسوم ملكي			✓
٦	تعتبر حماية حقوق الفرد من أهم نتائج الالتزام بالأنظمة واللوائح			✓
٧	نظام حماية الطفل هو مثال على تطبيق الأنظمة لمعالجة المشكلات الاجتماعية			✓
٨	تصدر الأنظمة الأساسية بأمر ملكي لأنها تتعلق بأساس الدولة			✓
٩	يساهم الالتزام بالأنظمة في تحقيق الأمن والاستقرار داخل المجتمع			✓
١٠	الشفافية والضبط التي توفرها الأنظمة ليس لها تأثير على تحفيز الاقتصاد			×
١١	تعديل اللوائح يتم بوتيرة أسرع وأكثر من تعديل الأنظمة			✓
١٢	يُعد نظام حماية الطفل مثلاً على الأنظمة الأساسية			×
١٣	يمكن للوزير المختص إصدار (نظام جديد) لوزارته			×
١٤	اللائحة التنفيذية لنظام المرور هي مثال على لائحة تهدف لإنشاء جهاز حكومي جديد			×



١٥ تختص اللوائح التنظيمية بترتيب عمل المرافق العامة وتحديد اختصاصاتها

موقع  
مادنتري

السؤال الأول: اختر الإجابة الصحيحة فيما يلي :

أي من التالي يعد من الأسباب الرئيسية لانتشار البطالة في العالم العربي والإسلامي؟			
١	زيادة الإنتاج والاستثمار	التوسع في التعليم المهني والفني	<b>التركيز في التعليم النظري دون المهني</b>
انخفاض عدد السكان			
المقصود بمصطلح "الأمية" هو			
٢	الفقر الشديد	البحث عن عمل	<b>عدم القدرة على القراءة والكتابة</b>
العيش في المناطق الريفية			
أين تقع دولة ألبانيا؟			
٣	غرب آسيا	شمال إفريقيا	شرق آسيا
<b>جنوب شرق أوروبا</b>			
كم تبلغ مساحة العالم العربي والإسلامي تقريباً؟			
٤	14 مليون كم <sup>2</sup>	24 مليون كم <sup>2</sup>	<b>34 مليون كم<sup>2</sup></b>
44 مليون كم <sup>2</sup>			
أي من الأنشطة الاقتصادية التالية يعد مشتركاً ورئيسياً في كل من إندونيسيا ونيجيريا؟			
٥	صيد اللؤلؤ	<b>إنتاج وتصدير النفط</b>	زراعة التفاح
صناعة السيارات			
لغة البهاسا هي اللغة الرئيسية السائدة في دولة			
٦	باكستان	إيران	نيجيريا
<b>إندونيسيا</b>			
...يعتمد اقتصاد نيجيريا بشكل كبير على محصول			
٧	القمح	الأرز	القطن
<b>الكاكاو</b>			
ما السبب الرئيسي لتنوع المناخ في العالم العربي والإسلامي؟			
٨	كثرة الأنهار	تنوع التضاريس فقط	<b>الامتداد على عدد كبير من دوائر العرض</b>
الإطالة على المحيطات			
أي من الأنشطة الاقتصادية التالية تؤدي إلى قلة الكثافة السكانية؟			
٩	الصناعة	الزراعة الكثيفة	التعدين
<b>الرعي</b>			
ما هو العامل الطبيعي الرئيسي الذي يسبب تركيز السكان في منطقة ما؟			
١٠	كثرة المصانع	وعورة التضاريس	<b>وفرة موارد المياه</b>
النشاط الرعوي			
ما النتيجة المباشرة لارتفاع نسبة الإعالة في المجتمع؟			
١١	زيادة الإنتاجية	<b>تحمل فرد عامل واحد نفقة عدد كبير من أفراد الأسرة</b>	انخفاض معدلات الهجرة
تحسن المستوى الصحي			

أي من الآثار التالية ينتج عن انتشار الأمية في المجتمع؟			
١٢	ركود التنمية	زيادة الإنتاجية	ارتفاع مستوى الصحة
ازدهار الاقتصاد			
ما هي الوسيلة الأولى التي وصل بها الإسلام إلى قارة إفريقيا؟			
١٣	الفتوحات الإسلامية	التجارة مع الهند	الهجرة إلى الحبشة
عن طريق الأندلس			
أي من الخصائص التالية تعد من الأهمية الدينية لموقع العالم الإسلامي؟			
١٤	التحكم في الممرات المائية	كونه مهد الديانات السماوية	مرور طرق التجارة به
اتساع مساحته			
ما هو الرابط الأساسي الذي يجمع شعوب العالم الإسلامي على اختلاف أعراقهم؟			
١٥	المصالح الاقتصادية فقط	التاريخ الحديث	الدين الإسلامي
الحدود السياسية المشتركة			
ما الممر المائي الذي يصل الخليج العربي بالمحيط الهندي؟			
١٦	قناة السويس	مضيق هرمز	مضيق باب المندب
مضيق جبل طارق			
وفقاً للنص، أي مما يلي لا يعد من أسباب انتشار الفقر؟			
١٧	انتشار البطالة	الحروب	الاستثمار الجيد للثروات الطبيعية
تخلف الصناعة			
أين تقع سلسلة جبال أطلس؟			
١٨	في تركيا	في غرب المملكة العربية السعودية	في إيران
في شمال غرب إفريقيا			
ما هي أكبر دولة إسلامية من حيث عدد السكان؟			
١٩	باكستان	نيجيريا	إندونيسيا
مصر			
الدول الأعضاء في منظمة التعاون الإسلامي يُطلق عليها مصطلح			
٢٠	العالم العربي	العالم الإسلامي	شبه القارة الهندية
دول حوض النيل			
السؤال الثاني :			
ضع علامة صح ( ✓ ) او علامة خطأ ( x ) امام العبارات التالية :			
١	يسود المناخ الاستوائي الممطر معظم أنحاء إندونيسيا لقربها من دائرة الاستواء.	✓	
٢	يشكل العالم العربي والإسلامي حوالي خمس مساحة اليابسة في العالم.	✓	
٣	تزداد الكثافة السكانية في المناطق الصحراوية لسهولة الحركة فيها.	✗	
٤	تقع دولة نيجيريا في منطقة داخلية لا تطل على أي بحار أو محيطات.	✗	

✓	٥	تُعد الهضاب المظهر التضاريسي السائد في العالم العربي والإسلامي
✓	٦	يقع غور الأردن في منطقة مرتفعة جداً عن مستوى سطح البحر
✓	٧	يُعد التصدير من الموارد المعدنية الهامة في كل من إندونيسيا ونيجيريا
✗	٨	قناة السويس هي ممر مائي طبيعي يصل البحر المتوسط بالبحر الأحمر
✗	٩	يُقصد بالتركيب النوعي تقسيم السكان حسب فئات أعمارهم
✗	١٠	يمتد العالم العربي والإسلامي بين قارتي آسيا وإفريقيا فقط
✓	١١	تؤدي الحروب والنزاعات إلى تفاقم مشكلتي الفقر والبطالة
✓	١٢	الزيادة الكبيرة في عدد السكان دون زيادة مقابلة في الإنتاج تساهم في انتشار البطالة
✗	١٣	لا توجد علاقة بين انتشار الفقر وارتفاع معدلات الأمية في المجتمع
✓	١٤	يُعد تشجيع الصناعة وتطويرها أحد الحلول الفعالة لمواجهة مشكلة البطالة
✗	١٥	تعتبر ألبانيا من الدول الإسلامية الواقعة في قارة آسيا
✓	١٦	التاريخ الإسلامي المشترك يُعد من عوامل ترابط العالم الإسلامي
✗	١٧	يتركز سكان العالم العربي والإسلامي بشكل متساوٍ على اليابسة
✓	١٨	تُسهّم اللغة العربية في تواصل المسلمين وزيادة ترابطهم لأنها لغة القرآن الكريم
✓	١٩	كان للتجار المسلمين دور رئيسي في نشر الإسلام في جنوب شرق آسيا
✓	٢٠	يحث الدين الإسلامي على طلب العلم ويعد التعليم مقياساً للتقدم المدني

## الوحدة ٨

السؤال الأول: اختر الإجابة الصحيحة فيما يلي :

الشعور بتراكم الأعمال وضيق الوقت عند اقتراب موعد الاختبارات يدل على			
١	نجاح الخطة الدراسية	<b>أن الخطة تحتاج إلى تقويم ومراجعة</b>	أن الطالب يملك وقتاً كافياً
أن الأهداف قد تحققت بالكامل			
الاستعداد لمشروع سيتم تسليمه بعد شهرين، يصنف ضمن الأعمال			
٢	قصيرة المدى	<b>طويلة المدى</b>	عاجلة والمهمة
غير المهمة			
لتخطيط الأحداث الكبرى مثل مواعيد الاختبارات على مدار الفصل الدراسي، ما هي طريقة الجدولة الأنسب؟			
٣	جدول الفترات اليومية	جدول التوقيت الزمني بالساعات	<b>جدول الفصل الدراسي بالأسابيع</b>
قائمة مهام عشوائية			
ما الفائدة الرئيسية لهواية مثل ممارسة الرياضة؟			
٤	<b>تفريغ الطاقة بشكل نافع وتنشيط الجسم</b>	تنمية القدرة على كتابة المسرحيات	اكتشاف المعارف الجديدة فقط
تجميع المقتنيات النادرة			
أي مما يلي يعد من أهم ضوابط ممارسة الهواية؟			
٥	أن تكون مكلفة مادياً	<b>أن تمارس في أوقات الفراغ</b>	أن تكون شائعة بين الأصدقاء
أن تستغرق معظم اليوم			
هواية جمع الطوابع والعملات القديمة تندرج تحت مجال			
٦	المنافسة	الإبداع	الابتكار
<b>الجمع</b>			
وفقاً لمصفوفة الأولويات، كيف يجب التعامل مع مهمة "مهمة وغير عاجلة"؟			
٧	تنفيذها فوراً	تركها تماماً	<b>التخطيط لها وجدولتها</b>
القيام بها بعد الانتهاء من كل شيء			
لعبة "أم تسع" الشعبية هي مثال على لعبة تعتمد بشكل أساسي على			
٨	الحظ والمصادفة	السرعة والقوة البدنية	<b>التخطيط والتفكير الذهني</b>
الغناء والتمثيل			
أي من التالي يعد من الإجراءات المقترحة لرصد المشكلات أثناء التخطيط؟			
٩	تجاهل المهام التي لم تنجزها	<b>وضع جدول مساند لتدوين ما أنجزته ومقارنته بالخطة</b>	الاعتماد على الذاكرة فقط لتتبع الإنجاز
زيادة عدد المهام في الخطة اليومية			
إنشاء جدول لمقارنة (أ) ما خطت له (ب) ما أنجزته فعلاً (يساعد على			
١٠	زيادة الشعور بالقلق	إخفاء الأخطاء التي وقعت بها	<b>معرفة حجم الوقت المهدر</b>
جعل الخطة أكثر تعقيداً			

		<b>وأسباب عدم الإنجاز.</b>		
<b>:للتغلب على مشكلة هدر الوقت أثناء حل الواجبات، يُنصح بـ</b>				
١١	حل الواجبات أمام التلفاز	أخذ استراحات طويلة ومفتوحة	<b>الابتعاد عن المشتتات مثل الهاتف وألعاب الفيديو.</b>	البدء بالمواد السهلة دائماً
<b>: عندما تفشل في اتباع خطتك الدراسية، فإن أول خطوة للتصحيح هي</b>				
١٢	التخلي عن التخطيط بشكل كامل	لوم الآخرين على عدم مساعدتك	<b>تحليل أسباب الفشل بصدق وواقعية.</b>	وضع خطة جديدة بنفس الأخطاء السابقة
<b>عندما يكون لديك عدد قليل من المهام غير الملحة في يوم الإجازة، أي جدول يفضل استخدامه لتحقيق المرونة؟</b>				
١٣	<b>جدول الفترات (صباح، ظهر، مساء)</b>	جدول التوقيت الزمني الدقيق	جدول الفصل الدراسي	لا داعي للجدول
<b>: حل واجب الرياضيات الذي يجب تسليمه غداً، يعتبر مهمة</b>				
١٤	<b>مهمة وعاجلة</b>	غير مهمة وغير عاجلة	مهمة وغير عاجلة	غير مهمة وعاجلة
<b>أي من التالي يمثل أفضل وصف لـ "الأولويات"؟</b>				
١٥	إنجاز جميع المهام في نفس الوقت	البدء بالمهام السهلة دائماً	<b>ترتيب الأعمال حسب أهميتها والزمن اللازم لها.</b>	تأجيل جميع الأعمال الصعبة
<b>أراد طالب أن يخطط لزيارة جده وممارسة هواية القراءة في يوم الجمعة، فالجدول الأنسب له هو</b>				
١٦	الجدول الفصلي	<b>جدول الفترات اليومية</b>	جدول التوقيت الزمني بالساعات	التقويم السنوي
<b>: جدول التوقيت الزمني الذي ينظم الأعمال بدقة يعتمد على تقسيم اليوم إلى</b>				
١٧	فترات فقط	أسابيع وأشهر	<b>ساعات ودقائق</b>	مهام عاجلة وغير عاجلة
<b>أي من التالي يعد الفائدة الرئيسية من إدارة الوقت؟</b>				
١٨	زيادة وقت الفراغ فقط	<b>تحقيق الأهداف وتقليل الشعور بالضغط</b>	جعل اليوم أكثر صعوبة	إلغاء جميع الأنشطة الترفيهية
١٩	<b>أي من الإرشادات التالية لا يساعد على نجاح التخطيط؟</b>			

مراجعة الجدول باستمرار	العمل المستمر دون توقف	تسجيل المواعيد النهائية	تخصيص وقت للراحة	
كيف تساهم هواية قراءة تاريخ الشخصيات الوطنية في بناء شخصية الفرد؟				
تساعده على اختراع الأجهزة	تعزز لديه القيم والانتماء الوطني	تنمي لديه الخيال الواسع فقط	تزيد من قوته البدنية	٢٠
السؤال الثاني :				
ضع علامة صح ( ✓ ) او علامة خطأ ( x ) امام العبارات التالية :				
✗	تقتصر فوائد الهوايات على الجانب الترفيهي فقط ولا تساهم في تنمية المهارات.			١
✗	يساعد تنظيم الوقت على زيادة الشعور بالضغط والتوتر بسبب كثرة الالتزامات.			٢
✓	التخطيط المسبق للاختبارات النهائية باستخدام الجدول الفصلي يساعد على الاستعداد الجيد لها.			٣
✗	التخطيط الجيد يعني البدء دائماً بالمهام الأقل أهمية للتخلص منها بسرعة.			٤
✗	عندما تشعر بالراحة وأن لديك وقتاً فائضاً، فهذا دليل على أن تخطيطك غير سليم.			٥
✗	جدول الفترات اليومية هو الأنسب لتنظيم المهام الدراسية اليومية الدقيقة والمتعددة.			٦
✓	الاستفادة من أخطاء التخطيط السابقة تساهم في نجاح الخطط المستقبلية.			٧
✓	يمكن أن تتحول أي هواية إلى ممارسة غير سليمة إذا أخذت جزءاً من أوقات الدراسة والواجبات الأساسية.			٨
✓	من الضروري أن تتناسب الهواية مع عمر الشخص الذي يمارسها وألا تكون مؤذية.			٩
✓	من أساليب تحديد الأولويات تقسيم الأعمال حسب الزمن إلى قصيرة المدى وطويلة المدى.			١٠
✗	الأعمال "غير المهمة والعاجلة" لها أولوية تنفيذ أعلى من الأعمال "المهمة وغير العاجلة".			١١
✓	من طرق التغلب على مشكلات التخطيط الابتعاد عن المشتتات كالهاتف أثناء الدراسة.			١٢
✓	تعتبر الألعاب الشعبية القديمة جزءاً من تراث المجتمع وتسهم في تقوية العلاقات الاجتماعية.			١٣
✗	من الأفضل استخدام نوع واحد فقط من جداول تنظيم الوقت لجميع المهام والظروف.			١٤

✓	يعتمد التخطيط الجيد على حسن إدارة الوقت والاستفادة منه	١ ٥
✓	تحديد وقت استراحة لا يزيد على خمس دقائق بعد إنجاز مهمة يساعد على الحفاظ على التركيز	١ ٦
✗	تخصيص أوقات للراحة والتمارين الرياضية يعتبر مضيعة للوقت عند التخطيط للمذاكرة	١ ٧
✗	الهواية هي مجرد وسيلة لتمضية وقت الفراغ دون أي فائدة أخرى	١ ٨
✓	يعتمد نجاح التخطيط على حسن تنفيذ الجدول والالتزام به	١ ٩
✗	الصدق والواقعية في كتابة الملاحظات حول إنجازك يعيق عملية تقويم التخطيط	٢ ٠

موقع  
مادنتيري

## الوحدة ٩

السؤال الأول: اختر الإجابة الصحيحة فيما يلي :

١	أي من التالي يعد من الموارد الاقتصادية اللازمة لعملية الإنتاج؟	الاستهلاك	السلع النهائية	الأيدي العاملة	التسويق
٢	أي من التالي يُعد من الفوائد المباشرة للتنوع الاقتصادي؟	انخفاض الصادرات	خلق قطاعات اقتصادية وفرص عمل جديدة	زيادة تقلبات الدخل الوطني	تقليل الاستثمارات الأجنبية
٣	أي من المشروعات التالية يعد مثلاً على جهود تنويع الاقتصاد في قطاع السياحة والترفيه؟	دمج الوزارات	مشروع القدية	نظام ضريبة القيمة المضافة	تطوير وزارة التعليم
٤	القدرة على إنتاج سلع وخدمات تحقق الجودة والفاعلية في الأسواق العالمية تعرف بـ:	الإنتاج المحلي	الناتج القومي	الكفاءة الإنتاجية	التنافسية
٥	عندما يتم تنفيذ العملية الإنتاجية وفق الأهداف مع تحقيق نتائج إيجابية مؤثرة، فإن ذلك يسمى:	الكفاءة	الاستهلاك	الفاعلية	الموارد
٦	الإطار العام الذي تنطلق منه جهود المملكة لتنويع الاقتصاد هو:	برنامج تيسير	صندوق الاستثمارات العامة	رؤية المملكة 2030	برنامج مراس
٧	ما هو المصطلح الذي يصف تنفيذ العملية الإنتاجية بالطريقة الصحيحة وبأقل زمن وتكلفة؟	الفاعلية	الكفاءة	التنافسية	الإنتاجية
٨	ما هو السبب الرئيسي الذي يدفع الدول إلى تنويع اقتصادها؟	زيادة الاعتماد على الاستيراد	تجنب مخاطر الاعتماد على مورد اقتصادي واحد	تخفيض الناتج المحلي الإجمالي	تقليل فرص العمل المتاحة
٩	أي من القطاعات التالية يعد من قطاعات الصناعات التحويلية في المملكة العربية السعودية؟	التعليم	صناعة البتروكيماويات	السياحة	الزراعة الحديثة
	يهدف برنامج "التخصيص" إلى				

تقليل الإنفاق على التنمية البشرية	إشراك القطاع الخاص في الاقتصاد والخدمات	إيقاف جميع المشروعات الجديدة	زيادة سيطرة الحكومة على جميع القطاعات	١٠
-----------------------------------	---	------------------------------	---------------------------------------	----

السؤال الثاني :

ضع علامة صح ( ✓ ) او علامة خطأ ( x ) امام العبارات التالية :

×	١	تهدف جهود تنويع الاقتصاد إلى تقليل الصادرات وزيادة الواردات.
✓	٢	تركز الفعالية على تحقيق الأهداف المحددة من النشاط الإنتاجي.
×	٣	رؤية المملكة 2030 هي خطة تهدف إلى تعزيز الاعتماد على النفط فقط.
✓	٤	يؤدي التنوع الاقتصادي إلى تحسين مستويات المعيشة للأفراد.
×	٥	وجود الكفاءة دون الفعالية يضمن تحقيق أهداف الإنتاج بوضوح.
×	٦	تبدأ مراحل النشاط الاقتصادي بعملية الإنتاج مباشرة.
✓	٧	تعد السياحة والثقافة من القطاعات الإنتاجية الواعدة في المملكة العربية السعودية.
✓	٨	التنمية البشرية ورفع كفاءة المواطنين جزء أساسي من خطط التنوع الاقتصادي.
×	٩	تؤدي زيادة التنافسية إلى انخفاض مستوى المعيشة للأفراد.
×	١٠	الاعتماد على مصدر دخل واحد مثل النفط يجعل الاقتصاد الوطني أكثر استقرارًا.

موقع  
مادنتيرا