


المملكة العربية السعودية	بسم الله الرحمن الرحيم	المادة:	المهارات الحياتية والأسرية
		الاختبار:	اختبار الفترة الثانية
		الصف:	الأول الابتدائي
مدرسة:		الفصل:	الدراسي الثاني ١٤٤٧

اسم الطالب	٢٠
------------	----

السؤال ١: اختر الإجابة الصحيحة من بين البدائل التالية:	٢٠
--	----

٦ / بعد إعطاء البائع النقود واستلام السلعة ، يجب :




أ / الذهاب فوراً .
ب / التأكد من عد النقود المتبقية .

٧ / تسمى الخطوط البيضاء المرسومة على الطريق :




أ / منطقة عبور مشاة .
ب / منطقة وقوف سيارات .

٨ / تسمى الأموال التي توفرها من مصروفك اليومي :




أ / ادخل .
ب / إسراف .

٩ / لكي لا تسبب إزعاج للآخرين أثناء اللعب :




أ / ألعب بهدوء .
ب / ألعب بصراخ وضجيج .

١٠ / فائدة الإشارة الضوئية هي :



أ / تنظيم حركة السيارات
ب / إنارة الشارع فقط

١ / متى يجب على المشاة العبور ؟




أ / عندما تكون الإشارة حمراء .
ب / عندما تكون الإشارة خضراء .

٢ / السلوك الصحيح عند الشراء من المقصف :




أ / الوقوف في الصف بانتظام .
ب / المزاحمة للوصول أولاً .

٣ / من فوائد اللعب التي تساعد الجسم على النمو :



أ / تنشيط الدورة الدموية .
ب / الجلوس الطويل أمام التلفاز .

٤ / عند عبور الشوارع الرئيسية ، احرص على استخدام



أ / جسر المشاة .
ب / القفز فوق الحواجز .

٥ / أي مكان يعد خطراً ويجب تجنب اللعب فيه :



أ / في الشارع .
ب / في الحديقة .

نموذج الإجابة

مدرسة:

اسم الطالب

٢٠

السؤال ١: اختر الإجابة الصحيحة من بين البدائل التالية:

٢٠

١ / متى يجب على المشاة العبور؟



أ / عندما تكون الإشارة حمراء .



ب / عندما تكون الإشارة خضراء .

٦ / بعد إعطاء البائع النقود واستلام السلعة ، يجب :



أ / الذهاب فوراً .

ب / التأكد من عد النقود المتبقية .

٧ / تسمى الخطوط البيضاء المرسومة على الطريق :



أ / منطقة عبور مشاة .

ب / منطقة وقوف سيارات .

٢ / السلوك الصحيح عند الشراء من المقصف :



أ / الوقوف في الصف بانتظام .

ب / المزاحمة للوصول أولاً .

٨ / تسمى الأموال التي توفرها من مصروفك اليومي :



أ / ادخل .

ب / إسراف .

٣ / من فوائد اللعب التي تساعد الجسم على النمو :



أ / تنشيط الدورة الدموية .

ب / الجلوس الطويل أمام التلفاز .

٩ / لكي لا تسبب إزعاج للآخرين أثناء اللعب :



أ / ألعب بهدوء .

ب / ألعب بصراخ وضجيج .

٤ / عند عبور الشوارع الرئيسية ، احرص على استخدام



أ / جسر المشاة .

ب / القفز فوق الحواجز .

١٠ / فائدة الإشارة الضوئية هي :



أ / تنظيم حركة السيارات

ب / إنارة الشارع فقط

٥ / أي مكان يعد خطراً ويجب تجنب اللعب فيه :



أ / في الشارع .

ب / في الحديقة .

المهارات الحياتية والأسرية	المادة:	بسم الله الرحمن الرحيم	مدرسة:
اختبار الفترة الفصل الثاني	الاختبار:		
اول ابتدائي	الصف:		
٤٥	الزمن:		
الثانية	الفترة:		

اسم الطالب	درجة الطالب	١٣
------------	-------------	----

السؤال الأول: اختر الإجابة الصحيحة:

٧ درجات	١- أي من العناصر التالية يجب أن يحتوي عليها فطورك يومياً حسب إرشادات الدرس؟		
	(أ) المشروبات الغازية	(ب) الحلوى	(ج) الحليب
	(د) البطاطس المقلية		
	٢- ورقة نقدية واحدة من فئة (هـ ريالاً) تساوي:		
	(أ) قطعتين نقديتين من فئة الريال	(ب) ٣ قطع نقدية من فئة الريال	(ج) ٤ قطع نقدية من فئة الريال
	(د) ٥ قطع نقدية من فئة الريال		
	٣- أي من الأنشطة التالية يُعتبر طريقة مثلى لقضاء وقت الفراغ؟		
	(أ) العبث بالكتب	(ب) النوم طوال اليوم	(ج) قراءة القرآن والقصص المفيدة
	(د) تضييع الوقت بلا فائدة		
	٤- ماذا يفعل السائق عندما تكون الإشارة الضوئية باللون الأحمر؟		
	(أ) يتوقف	(ب) يسير بسرعة	(ج) يستعد للانطلاق
	(د) ينعطف يميناً		
	٥- ما هو وقت الفراغ كما ورد في الدرس؟		
	(أ) هو الوقت الذي أعمل فيه	(ب) هو الوقت الذي لا أعمل فيه	(ج) هو وقت المدرسة فقط
	(د) هو وقت النوم فقط		
	٦- عندما أشتري من المقصف، يجب أن أختار:		
	(أ) كل ما يعجبني حتى لو لم أكن جائعاً	(ب) ما أحتاجه من طعام وشراب	(ج) أغلى الأشياء سعراً
	(د) نفس ما اشتراه صديقي فقط		
	٧- ما هو التصرف الصحيح تجاه الكتب؟		
	(أ) العبث بها وتمزيقها	(ب) اللعب بها كالكرة	(ج) المحافظة عليها نظيفة وترتيبها
	(د) الأكل والشرب فوقها		

السؤال الثاني: ضع علامة (صح) أو (خطأ):

٦ درجات	#	
الإجابة	العبرة	
()	يُعد الماء من أكثر العناصر أهمية للجسم ويجب شربه بانتظام.	١
()	الادخار هو توفير جزء من المال لوقت الحاجة.	٢
()	الصحيح هو وضع الوجبة المدرسية مع الكتب الدراسية في نفس الجيب بالحقيبة.	٣
()	من آداب اللعب احترام الآخرين وعدم التسبب في إزعاجهم.	٤
()	الإشارة الضوئية تساعد في تنظيم المرور.	٥
()	من آداب الطعام تناول الأكل أثناء المشي واللعب.	٦

المهارات الحياتية والأسرية	المادة:		مدرسة:
اختبار الفترة الفصل الثاني	الاختبار:		
اول ابتدائي	الصف:		
٤٥	الزمن:		
الثانية	لفترة:		
١٣		اسم الطالب	

نموذج الإجابة

درجات ٧	السؤال الأول: اختر الإجابة الصحيحة:		
١- أي من العناصر التالية يجب أن يحتوي عليها فطورك يومياً حسب إرشادات الدرس؟			
(أ) المشروبات الغازية	(ب) الحلوى	(ج) الحليب	(د) البطاطس المقلية
٢- ورقة نقدية واحدة من فئة (هـ ريالاً) تساوي:			
(أ) قطعتين نقديتين من فئة الريال	(ب) ٣ قطع نقدية من فئة الريال	(ج) ٤ قطع نقدية من فئة الريال	(د) ٥ قطع نقدية من فئة الريال
٣- أي من الأنشطة التالية يُعتبر طريقة مثلى لقضاء وقت الفراغ؟			
(أ) العبث بالكتب	(ب) النوم طوال اليوم	(ج) قراءة القرآن والقصص المفيدة	(د) تضييع الوقت بلا فائدة
٤- ماذا يفعل السائق عندما تكون الإشارة الضوئية باللون الأحمر؟			
(أ) يتوقف	(ب) يسير بسرعة	(ج) يستعد للانطلاق	(د) ينعطف يميناً
٥- ما هو وقت الفراغ كما ورد في الدرس؟			
(أ) هو الوقت الذي أعمل فيه	(ب) هو الوقت الذي لا أعمل فيه	(ج) هو وقت المدرسة فقط	(د) هو وقت النوم فقط
٦- عندما أشتري من المقصف، يجب أن أختار:			
(أ) كل ما يعجبني حتى لو لم أكن جائعاً	(ب) ما أحتاجه من طعام وشراب	(ج) أغلى الأشياء سعراً	(د) نفس ما اشتراه صديقي فقط
٧- ما هو التصرف الصحيح تجاه الكتب؟			
(أ) العبث بها وتمزيقها	(ب) اللعب بها كالكرة	(ج) المحافظة عليها نظيفة وترتيبها	(د) الأكل والشرب فوقها

درجات ٦	السؤال الثاني: ضع علامة (صح) أو (خطأ):		
#	العبارة	الإجابة	
١	يُعد الماء من أكثر العناصر أهمية للجسم ويجب شربه بانتظام.	(✓)	
٢	الادخار هو توفير جزء من المال لوقت الحاجة.	(✓)	
٣	الصحيح هو وضع الوجبة المدرسية مع الكتب الدراسية في نفس الجيب بالحقيبة.	(X)	
٤	من آداب اللعب احترام الآخرين وعدم التسبب في إزعاجهم.	(✓)	
٥	الإشارة الضوئية تساعد في تنظيم المرور.	(✓)	
٦	من آداب الطعام تناول الأكل أثناء المشي واللعب.	(X)	

اختبار

المهارات الحياتية والأسرية

للف أول الابتدائي

الفترة الثانية



الفصل :

الإسم :

اختر الإجابة الصحيحة بوضع علامة (✓) أمامها:

٢ السلوك الصحيح عند الشراء من المقصف:



- أ. المزاحمة للوصول أولاً.
- ب. الوقوف في الصف بانتظام.

١ يجب على المشاة عبور الإشارة.



- أ. عندما تكون خضراء.
- ب. عندما تكون حمراء.

٤ عند عبور الشوارع الرئيسية، أحرص على استخدام:



- أ. جسر المشاة.
- ب. القفز فوق الحواجز.

٣ من فوائد اللعب التي تساعد على نمو الجسم:



- أ. تنشيط الدورة الدموية.
- ب. الجلوس الطويل أمام التلفاز.

٦ بعد إعطاء البائع النقود واستلام السلعة، يجب:



- أ. التأكد من عد النقود المتبقية.
- ب. الانصراف فوراً.

٥ أي مكان يعد خطراً ويجب تجنب اللعب فيه؟



- أ. المطبخ أو الشارع.
- ب. حديقة المنزل.

٨ ماذا تسمى الأموال التي توفرها من مصروفك؟



- أ. ادخارا.
- ب. إسرافاً.

٧ تسمى الخطوط البيضاء على الطريق منطقة:



- أ. عبور المشاة.
- ب. وقوف السيارات.

١٠ فائدة الإشارة الضوئية هي:



- أ. تنظيم حركة السيارات.
- ب. إنارة الشارع فقط.

٩ لكي لا تسبب إزعاجاً للآخرين أثناء اللعب:



- أ. اللعب بهدوء.
- ب. اللعب بصراخ وضجيج.

اختبار

المهارات الحياتية والأسرية

للف الأهل الابتدائي

الفترة الثانية

نموذج الإجابة

الإسم:

اختر الإجابة الصحيحة بوضع علامة (✓) امامها:

٢ السلوك الصحيح عند الشراء من المقصف:

٢



- أ. المزاحمة للوصول أولاً.
- ب. الوقوف في الصف بانتظام.

١ يجب على المشاة عبور الإشارة.

١



- أ. عندما تكون خضراء.
- ب. عندما تكون حمراء.

٤ عند عبور الشوارع الرئيسية، أحرص على استخدام:

٤



- أ. جسر المشاة.
- ب. القفز فوق الحواجز.

٣ من فوائد اللعب التي تساعد على نمو الجسم:

٣



- أ. تنشيط الدورة الدموية.
- ب. الجلوس الطويل أمام التلفاز.

٦ بعد إعطاء البائع النقود واستلام السلعة، يجب:

٦



- أ. التأكد من عد النقود المتبقية.
- ب. الانصراف فوراً.

٥ أي مكان يعد خطراً ويجب تجنب اللعب فيه؟

٥



- أ. المطبخ أو الشارع.
- ب. حديقة المنزل.

٨ ماذا تسمى الأموال التي توفرها من مصروفك؟

٨



- أ. ادخارا.
- ب. إسرافاً.

٧ تسمى الخطوط البيضاء على الطريق منطقة:

٧



- أ. عبور المشاة.
- ب. وقوف السيارات.

١٠ فائدة الإشارة الضوئية هي:

١٠



- أ. تنظيم حركة السيارات.
- ب. إنارة الشارع فقط.

٩ لكي لا تسبب إزعاجاً للآخرين أثناء اللعب:

٩



- أ. اللعب بهدوء.
- ب. اللعب بصراخ وضجيج.