

اسم الطالبة/.....

الصف/الأول الابتدائي

المادة/ العلوم



المملكة العربية السعودية

وزارة التعليم

الإدارة العامة للتعليم بمنطقة .....


## اختبار تشخيصي لمادة العلوم الصف الأول لعام ١٤٤٥ هـ

(درجتان لكل فقرة)

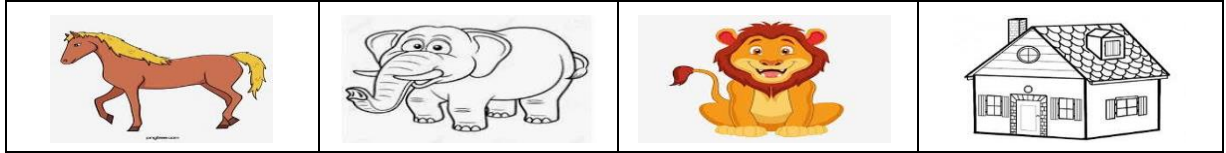
١٠ درجات

\* / نحيط الأجابة الصحيحة :

١ / من المخلوقات الحية :




٢ / من الأشياء غير الحية :



٣ / جزء من النبات ينبت ثم ينمو ليصير نبات جديد هو :



٣ / موطن تنمو فيه أشجار كثيرة وطويلة هي :



٥ / موطن من مواطن المياه العذبة تحيط بها اليابسة :



السؤال الثالث

2

صل بين الصورة والكلمة المناسبة

(أ) الصحراء



(ب) الغابة

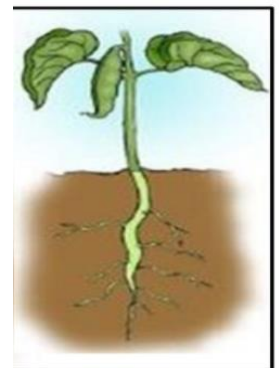
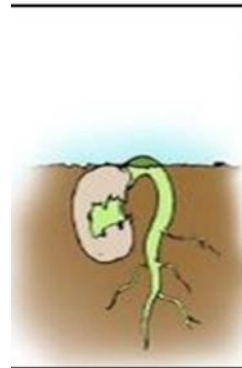



السؤال الرابع: رتب مراحل حياة الفاصوليا بوضع الرقم المناسب تحت الصورة

2

(4) نبات مكتمل النمو


(1) بذرة (2) بذرة لها جذور (3) بادره



تصنيف المستوى:

| المستوى        | المستوى فوق المتوسط | المستوى المتوسط | المستوى دون المتوسط |
|----------------|---------------------|-----------------|---------------------|
| <u>الدرجة</u>  | <u>8-10</u>         | <u>5-7</u>      | <u>1-4</u>          |
| تصنيف الطالب/ة |                     |                 |                     |

اختر الإجابة الصحيحة بوضع دائرة حول الحرف الدال على الإجابة:

|                       |                              |  |                        |
|-----------------------|------------------------------|--|------------------------|
| 1.                    |                              |  |                        |
| جميع الصور أعلاه هي : |                              |  |                        |
| (أ)                   | مخلوقات حية                  | (ب)  | أشياء خيرة حية         |
| (ج)                   | نباتات                       | (د)  | حيوانات                |
| 2.                    |                              | هل الحجر مخلوق حي ؟  |                        |
| (أ)                   | نعم يحتاج إلى الغذاء والهواء | (ب)  | لا . لأنه لا ينمو      |
| 3.                    |                              | مراحل نمو المخلوق الحي وعيشه وموته تسمى ...  |                        |
| (أ)                   | دورة الحياة                  | (ب)  | النبات الأم            |
| (ج)                   | الغابة المطيرة               | (د)  | النبات الأب            |
| 4.                    |                              | كيف تبدو الغابة ؟  |                        |
| (أ)                   | رطبة                         | (ب)  | جافة وحارة             |
| (ج)                   | باردة وفارغة                 | (د)  | جافة وباردة            |
| 5.                    |                              | فيم تختلف البحيرة عن البحر أو المحيط ؟   |                        |
| (أ)                   | البحيرة فيها نباتات .        | (ب)  | البحيرة فيها أسماك .   |
| (ج)                   | البحيرة مياهها عذبة .        | (د)  | البحيرة مياهها مالحة . |
| 6.                    |                              | الأشياء التي نحصل عليها من الأرض ونستخدمها تسمى :                                  |                        |
| (أ)                   | أشياء جديدة .                | (ب)  | أشياء في الأرض .       |
| (ج)                   | موارد طبيعية .               | (د)  | تلوث                   |
| 7.                    |                              | أي الموارد الطبيعية التالية مصدره حيواني ؟   |                        |
| (أ)                   | طين                          | (ب)  | خشب                    |
| (ج)                   | بلاستيك                      | (د)  | صوف                    |

|     |   |
|-----|---|
| 8   | ما الأداة التي تستخدم لمعرفة درجة الحرارة ؟ |
| (أ) | مقياس المطر .                               |
| (ب) | مقياس الحرارة .                             |
| (ج) | الظل .                                      |
| (د) | الضغط .                                     |




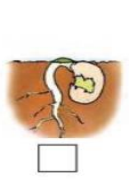

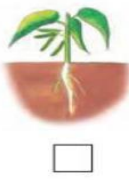
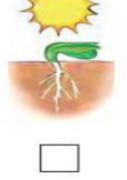


|     |   |
|-----|---|
| 9   | ماذا يحصل للبذرة اذا زرعت وسقيت وتعرضت للضوء؟ |
| (أ) | تنمو إلى بادرة .                              |
| (ب) | تبقى داخل الثمرة .                            |
| (ج) | تموت .  |
| (د) | لا تنمو .                                     |

|     |   |
|-----|---|
| 10  | إلى أي حالة من حالات المادة يصنف الهواء ؟ |
| (أ) | السائلة .                                 |
| (ب) | الغازية .                                 |
| (ج) | الصلبية .                                 |
| (د) | البلازما .                                |

انتهت الاسئلة

## اختبار تشخيصي مادة العلوم للصف الأول نموذج (١)

الاسم/

|  |                       |                       |          |                       |  |  |
|--|-----------------------|-----------------------|----------|-----------------------|--|--|
| <table border="1"> <tr> <td>اجتاز</td> <td><input type="radio"/></td> </tr> <tr> <td>لم يجتاز</td> <td><input type="radio"/></td> </tr> </table> | اجتاز                 | <input type="radio"/> | لم يجتاز | <input type="radio"/> | <p>س١/ صنف الصور التالية إلى مخلوقات حية وأشياء غير حية: (بالتوصيل)</p> <div style="display: flex; justify-content: space-around;"> <div style="border: 1px solid black; border-radius: 15px; padding: 5px; width: 150px; text-align: center;">أشياء غير حية</div> <div style="border: 1px solid black; border-radius: 15px; padding: 5px; width: 150px; text-align: center;">مخلوقات حية</div> </div> <div style="display: flex; justify-content: space-around; margin-top: 10px;">     </div> | المقارنة بين المخلوقات الحية والأشياء غير الحية وتصنيفها |
| اجتاز  | <input type="radio"/> |                       |          |                       |  |  |
| لم يجتاز   | <input type="radio"/> |                       |          |                       |  |  |
| <table border="1"> <tr> <td>اجتاز</td> <td><input type="radio"/></td> </tr> <tr> <td>لم يجتاز</td> <td><input type="radio"/></td> </tr> </table> | اجتاز                 | <input type="radio"/> | لم يجتاز | <input type="radio"/> | <p>س٢/ رتب مراحل حياة نبات الفاصوليا بوضع الرقم المناسب (١ - ٢ - ٣ - ٤)</p> <div style="display: flex; justify-content: space-around; margin-top: 10px;">     </div>  | وصف دورة حياة نبات.                                      |
| اجتاز  | <input type="radio"/> |                       |          |                       |  |  |
| لم يجتاز   | <input type="radio"/> |                       |          |                       |  |  |
| <table border="1"> <tr> <td>اجتاز</td> <td><input type="radio"/></td> </tr> <tr> <td>لم يجتاز</td> <td><input type="radio"/></td> </tr> </table> | اجتاز                 | <input type="radio"/> | لم يجتاز | <input type="radio"/> | <p>س٣/ ضع علامة (✓) تحت الموطن الذي تنمو فيه أشجار كثيرة وطويلة :</p> <div style="display: flex; justify-content: space-around; margin-top: 10px;">    </div> <div style="display: flex; justify-content: space-around; margin-top: 20px;"> <input type="checkbox"/> <input type="checkbox"/> <input type="checkbox"/> </div>  | وصف مواطن اليابسة.                                       |
| اجتاز  | <input type="radio"/> |                       |          |                       |  |  |
| لم يجتاز   | <input type="radio"/> |                       |          |                       |  |  |

|  |  |   |          |   |  |  |  |   |                       |   |                       |  |
|--|--|---|----------|---|--|--|--|---|-----------------------|---|-----------------------|--|
| <table border="1"> <tr> <td>اجتاز</td> <td><input type="radio"/></td> </tr> <tr> <td>لم يجتاز</td> <td><input type="radio"/></td> </tr> </table> | اجتاز  | <input type="radio"/>   | لم يجتاز | <input type="radio"/>   | <p>س٤/ ضع دائرة حول الإجابة الصحيحة:<br/>أيّ الحيوانات التالية يعيش في البحيرة:</p> <table border="1"> <tr> <td></td> <td>ج</td> <td></td> <td>ب</td> <td></td> <td>أ</td> </tr> </table>                                       |   | ج  |    | ب                     |  | أ                     | <p>وصف مواطن الماء</p>                     |
| اجتاز  | <input type="radio"/>  |   |          |   |  |  |  |   |                       |   |                       |  |
| لم يجتاز   | <input type="radio"/>  |   |          |   |  |  |  |   |                       |   |                       |  |
|   | ج  |    | ب        |  | أ  |  |  |   |                       |   |                       |  |
| <table border="1"> <tr> <td>اجتاز</td> <td><input type="radio"/></td> </tr> <tr> <td>لم يجتاز</td> <td><input type="radio"/></td> </tr> </table> | اجتاز  | <input type="radio"/>   | لم يجتاز | <input type="radio"/>   | <p>س٥/ اختر الإجابة الصحيحة:<br/>من الموارد الطبيعية غير الحية:<br/>( الماء - الجمل - الخروف )</p>   | <p>التعرف على الموارد الطبيعية ووصفها</p>  |  |   |                       |   |                       |  |
| اجتاز  | <input type="radio"/>  |   |          |   |  |  |  |   |                       |   |                       |  |
| لم يجتاز   | <input type="radio"/>  |   |          |   |  |  |  |   |                       |   |                       |  |
| <table border="1"> <tr> <td>اجتاز</td> <td><input type="radio"/></td> </tr> <tr> <td>لم يجتاز</td> <td><input type="radio"/></td> </tr> </table> | اجتاز  | <input type="radio"/>   | لم يجتاز | <input type="radio"/>   | <p>س٦/ أيّ الصور التالية تدل على فصل الشتاء:</p> <table border="1"> <tr> <td></td> <td></td> <td></td> </tr> <tr> <td><input type="radio"/></td> <td><input type="radio"/></td> <td><input type="radio"/></td> </tr> </table> |  |  |  | <input type="radio"/> | <input type="radio"/>   | <input type="radio"/> | <p>وصف كيفية تغير الفصول مع تغير الطقس</p> |
| اجتاز  | <input type="radio"/>  |   |          |   |  |  |  |   |                       |   |                       |  |
| لم يجتاز   | <input type="radio"/>  |   |          |   |  |  |  |   |                       |   |                       |  |
|    |  |  |          |   |  |  |  |   |                       |   |                       |  |
| <input type="radio"/>  | <input type="radio"/>  | <input type="radio"/>   |          |   |  |  |  |   |                       |   |                       |  |
| <table border="1"> <tr> <td>اجتاز</td> <td><input type="radio"/></td> </tr> <tr> <td>لم يجتاز</td> <td><input type="radio"/></td> </tr> </table> | اجتاز  | <input type="radio"/>   | لم يجتاز | <input type="radio"/>   | <p>س٧/ أخط الإجابة الصحيحة:<br/>المادة التي تأخذ شكل الوعاء الذي توضع فيه هي:<br/>( الصلبة - السائلة - الغازية )</p>   | <p>تحديد بعض خصائص المادة.</p>   |  |   |                       |   |                       |  |
| اجتاز  | <input type="radio"/>  |   |          |   |  |  |  |   |                       |   |                       |  |
| لم يجتاز   | <input type="radio"/>  |   |          |   |  |  |  |   |                       |   |                       |  |

مديرة المدرسة:




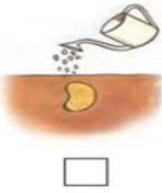







اسم المعلمة:

المشرفة التربوية:

\*يرجى الاحتفاظ بالشواهد في ملف خاص بالمعلمة

## اختبار تشخيصي مادة العلوم للصف الأول نموذج (٢)

الاسم/

|  |       |   |          |   |   |  |
|--|-------|---|----------|---|---|--|
| <table border="1"> <tr> <td>اجتاز</td> <td>○</td> </tr> <tr> <td>لم يجتاز</td> <td>○</td> </tr> </table> | اجتاز | ○ | لم يجتاز | ○ | <p>س١ / اختر الإجابة الصحيحة:<br/>أي مما يلي يحتاج إلى الغذاء والماء والهواء:</p> <div style="display: flex; justify-content: space-around; align-items: center;"> <div style="text-align: center;"> <br/> <input type="checkbox"/> </div> <div style="text-align: center;"> <br/> <input type="checkbox"/> </div> <div style="text-align: center;"> <br/> <input type="checkbox"/> </div> </div>  | <p>المقارنة بين المخلوقات الحية<br/>الأشياء غير الحية وتصنيفها</p> |
| اجتاز  | ○     |   |          |   |   |  |
| لم يجتاز   | ○     |   |          |   |   |  |
| <table border="1"> <tr> <td>اجتاز</td> <td>○</td> </tr> <tr> <td>لم يجتاز</td> <td>○</td> </tr> </table> | اجتاز | ○ | لم يجتاز | ○ | <p>س٢ / أيّ الصور التالية تمثل بذرة:</p> <div style="display: flex; justify-content: space-around; align-items: center;"> <div style="text-align: center;"> <br/> <input type="checkbox"/> </div> <div style="text-align: center;"> <br/> <input type="checkbox"/> </div> <div style="text-align: center;"> <br/> <input type="checkbox"/> </div> </div>   | <p>وصف دورة حياة نبات.</p>   |
| اجتاز  | ○     |   |          |   |   |  |
| لم يجتاز   | ○     |   |          |   |   |  |
| <table border="1"> <tr> <td>اجتاز</td> <td>○</td> </tr> <tr> <td>لم يجتاز</td> <td>○</td> </tr> </table> | اجتاز | ○ | لم يجتاز | ○ | <p>س٣ / صل الحيوان بمكان عيشه :</p> <div style="display: flex; justify-content: space-around; align-items: center;"> <div style="text-align: center;"> <br/> <input type="checkbox"/> </div> <div style="text-align: center;"> <br/> <input type="checkbox"/> </div> <div style="text-align: center;"> <br/> <input type="checkbox"/> </div> <div style="text-align: center;"> <br/> <input type="checkbox"/> </div> </div> | <p>وصف مواطن اليابسة.</p>  |
| اجتاز  | ○     |   |          |   |   |  |
| لم يجتاز   | ○     |   |          |   |   |  |
| <table border="1"> <tr> <td>اجتاز</td> <td>○</td> </tr> <tr> <td>لم يجتاز</td> <td>○</td> </tr> </table> | اجتاز | ○ | لم يجتاز | ○ | <p>س٤ / ضع دائرة حول الإجابة الصحيحة:</p> <p>من مواطن المياه المالحة . ( المحيط - البحيرة ) ←</p> <div style="text-align: center;">  </div>  | <p>وصف مواطن الماء</p>   |
| اجتاز  | ○     |   |          |   |   |  |
| لم يجتاز   | ○     |   |          |   |   |  |

س٥ / صل الصورة بما يناسبها:

التعرف على الموارد الطبيعية  
ووصفها

|          |                       |
|----------|-----------------------|
| اجتاز    | <input type="radio"/> |
| لم يجتاز | <input type="radio"/> |



س٦ / أكتب الكلمة المناسبة في الفراغ :

( الصيف - الخريف - الشتاء )



١- أشد الفصول برودة فصل .....

وصف كيفية تغير  
الفصول مع تغير الطقس

|          |                       |
|----------|-----------------------|
| اجتاز    | <input type="radio"/> |
| لم يجتاز | <input type="radio"/> |

س٧ / أكتب رقم كل عبارة في العمود (أ) أمام ما يناسبها في العمود(ب):

|          |                       |
|----------|-----------------------|
| اجتاز    | <input type="radio"/> |
| لم يجتاز | <input type="radio"/> |

| ( ب )  | ( أ )                       |
|--|-----------------------------|
|  <input type="checkbox"/> | ( ١ ) مادة صلبة شكلها ثابت. |
|  <input type="checkbox"/> | ( ٢ ) سوائل تنساب بسرعة.    |

تحديد بعض خصائص المادة.

مديرة المدرسة:











اسم المعلمة:










المشرفة التربوية:

\*يرجى الاحتفاظ بالشواهد في ملف خاص بالمعلمة

### اختبار تشخيصي مادة العلوم للصف الأول نموذج (٣)

الاسم/

|  |                       |                       |          |                       |  |  |
|--|-----------------------|-----------------------|----------|-----------------------|--|--|
| <table border="1"> <tr> <td>اجتاز</td> <td><input type="radio"/></td> </tr> <tr> <td>لم يجتاز</td> <td><input type="radio"/></td> </tr> </table> | اجتاز                 | <input type="radio"/> | لم يجتاز | <input type="radio"/> | <p>س١ / اختر الإجابة الصحيحة:<br/>أي مما يلي مخلوق حي:</p> <div style="display: flex; justify-content: space-around; align-items: center;"> <div style="text-align: center;">  <br/><input type="radio"/> </div> <div style="text-align: center;">  <br/><input type="radio"/> </div> <div style="text-align: center;">  <br/><input type="radio"/> </div> </div> | <p>المقارنة بين المخلوقات الحية<br/>الأشياء غير الحية وتصنيفها</p> |
| اجتاز  | <input type="radio"/> |                       |          |                       |  |  |
| لم يجتاز   | <input type="radio"/> |                       |          |                       |  |  |
| <table border="1"> <tr> <td>اجتاز</td> <td><input type="radio"/></td> </tr> <tr> <td>لم يجتاز</td> <td><input type="radio"/></td> </tr> </table> | اجتاز                 | <input type="radio"/> | لم يجتاز | <input type="radio"/> | <p>س٢ / حدد جزء النبات الذي ينبت ثم ينمو ويصبح نباتا جديدا:</p> <div style="display: flex; justify-content: space-around; align-items: center;">    </div>  | <p>وصف دورة حياة نبات.</p>   |
| اجتاز  | <input type="radio"/> |                       |          |                       |  |  |
| لم يجتاز   | <input type="radio"/> |                       |          |                       |  |  |
| <table border="1"> <tr> <td>اجتاز</td> <td><input type="radio"/></td> </tr> <tr> <td>لم يجتاز</td> <td><input type="radio"/></td> </tr> </table> | اجتاز                 | <input type="radio"/> | لم يجتاز | <input type="radio"/> | <p>س٣ / ضع علامة (✓) تحت الموطن الذي يتميز بكثرة أعشابه:</p> <div style="display: flex; justify-content: space-around; align-items: center;">    </div> <div style="display: flex; justify-content: space-around; align-items: center; margin-top: 20px;"> <input type="checkbox"/> <input type="checkbox"/> <input type="checkbox"/> </div>                | <p>وصف مواطن اليابسة.</p>  |
| اجتاز  | <input type="radio"/> |                       |          |                       |  |  |
| لم يجتاز   | <input type="radio"/> |                       |          |                       |  |  |
| <table border="1"> <tr> <td>اجتاز</td> <td><input type="radio"/></td> </tr> <tr> <td>لم يجتاز</td> <td><input type="radio"/></td> </tr> </table> | اجتاز                 | <input type="radio"/> | لم يجتاز | <input type="radio"/> | <p>س٤ / ضع دائرة حول الإجابة الصحيحة:<br/>من مواطن المياه العذبة . ( المحيط - البحيرة )</p> <div style="text-align: center;">  </div>   | <p>وصف مواطن الماء</p>   |
| اجتاز  | <input type="radio"/> |                       |          |                       |  |  |
| لم يجتاز   | <input type="radio"/> |                       |          |                       |  |  |

| <table border="1"> <tr> <td>اجتاز</td> <td><input type="radio"/></td> </tr> <tr> <td>لم يجتاز</td> <td><input type="radio"/></td> </tr> </table> | اجتاز                        | <input type="radio"/> | لم يجتاز | <input type="radio"/> | <p>س٥ / اختر الإجابة الصحيحة:<br/>من الموارد الطبيعية الحية:<br/>( القلم - الحيوانات - الكتاب )</p>  | <p>التعرف على الموارد الطبيعية ووصفها</p>  |       |  |                              |   |   |                                |
|--|------------------------------|-----------------------|----------|-----------------------|--|--|-------|--|------------------------------|---|---|--------------------------------|
| اجتاز  | <input type="radio"/>        |                       |          |                       |  |  |       |  |                              |   |   |                                |
| لم يجتاز   | <input type="radio"/>        |                       |          |                       |  |  |       |  |                              |   |   |                                |
| <table border="1"> <tr> <td>اجتاز</td> <td><input type="radio"/></td> </tr> <tr> <td>لم يجتاز</td> <td><input type="radio"/></td> </tr> </table> | اجتاز                        | <input type="radio"/> | لم يجتاز | <input type="radio"/> | <p>س٦ / أكتب الكلمة المناسبة في الفراغ:<br/>( الخريف - الشتاء )<br/>١ - يصبح الطقس معتدلا وتتساقط أوراق بعض النباتات في فصل .....</p>  | <p>وصف كيفية تغير الفصول مع تغير الطقس</p> |       |  |                              |   |   |                                |
| اجتاز  | <input type="radio"/>        |                       |          |                       |  |  |       |  |                              |   |   |                                |
| لم يجتاز   | <input type="radio"/>        |                       |          |                       |  |  |       |  |                              |   |   |                                |
| <table border="1"> <tr> <td>اجتاز</td> <td><input type="radio"/></td> </tr> <tr> <td>لم يجتاز</td> <td><input type="radio"/></td> </tr> </table> | اجتاز                        | <input type="radio"/> | لم يجتاز | <input type="radio"/> | <p>س٧ / صل العبارة في العمود (أ) بما يناسبها في العمود(ب):</p> <table border="1"> <thead> <tr> <th data-bbox="359 862 782 918">( ب )</th> <th data-bbox="782 862 1236 918">( أ )</th> </tr> </thead> <tbody> <tr> <td data-bbox="359 918 782 1108">  </td> <td data-bbox="782 918 1236 1518" rowspan="3"> <p>مادة صلبة شكلها ثابت.</p> </td> </tr> <tr> <td data-bbox="359 1108 782 1294">  </td> </tr> <tr> <td data-bbox="359 1294 782 1518">  </td> </tr> </tbody> </table> | ( ب )                                      | ( أ ) |  | <p>مادة صلبة شكلها ثابت.</p> |  |  | <p>تحديد بعض خصائص المادة.</p> |
| اجتاز  | <input type="radio"/>        |                       |          |                       |  |  |       |  |                              |   |   |                                |
| لم يجتاز   | <input type="radio"/>        |                       |          |                       |  |  |       |  |                              |   |   |                                |
| ( ب )  | ( أ )                        |                       |          |                       |  |  |       |  |                              |   |   |                                |
|    | <p>مادة صلبة شكلها ثابت.</p> |                       |          |                       |  |  |       |  |                              |   |   |                                |
|   |                              |                       |          |                       |  |  |       |  |                              |   |   |                                |
|   |                              |                       |          |                       |  |  |       |  |                              |   |   |                                |

مديرة المدرسة:

اسم المعلمة:

المشرفة التربوية:

\*يرجى الاحتفاظ بالشواهد في ملف خاص بالمعلمة



وزارة التعليم  
Ministry of Education



رؤية  
VISION 2030  
الوزارة  
MINISTRY OF EDUCATION  
KINGDOM OF SAUDI ARABIA

قياس أداء طالب/ة للصف الأول ابتدائي لمادة العلوم للعام  
الدراسي 1443هـ (نموذج 1)

|    |
|----|
|    |
| 10 |

اسم الطالب/ة ..... الدرجة الكلية

المملكة العربية السعودية  
وزارة التعليم  
الإدارة العامة للتعليم في منطقة القصيم  
الشؤون التعليمية (بنات)  
مكتب التعليم جنوب  
قسم الصفوف الأولية

|   |
|---|
|   |
| 4 |

السؤال الأول:

اختر الإجابة الصحيحة من بين الخيارات الآتية

1. أي من المخلوقات التالية تعتبر من المخلوقات الحية؟

- صخور      ○ حيوانات      ○ تربة

2. البحار من مواطن المياه..... ويعيش فيها الثدييات والاسماك؟

- المالحة      ○ غير المالحة      ○ العذبة

3. من خصائص المادة الصلبة انها؟

- شكلها ثابت      ○ سريعة الانتشار      ○ تأخذ شكل الوعاء

4. أي مما يلي يعتبر من موارد الطبيعة؟



السؤال الثاني

|   |
|---|
|   |
| 2 |

ضع اسم كل جزء من أجزاء النبات تحت الصورة المناسبة:

جذور      ساق      أوراق      زهرة

